

1 Перед Вами на экране 5 предложений А – Е с пропусками. Внимательно прочитайте их. Прочитайте также варианты ответов в выпадающем списке. Вы услышите диалог. Для каждого предложения выберите из выпадающего списка слово или словосочетание, соответствующее содержанию диалога. К каждому предложению подходит только одно слово или словосочетание. Вы услышите запись дважды. При повторном прослушивании проверьте себя. У Вас есть 45 секунд, чтобы ознакомиться с предложениями.

- A. Jack went to  at the weekend. the cinema  
the park  
the farm
- B. Aunt Liza is  in the photo. next to the tree  
behind the tree  
behind the table
- C. The weather was  on the farm. rainy  
windy  
hot
- D. Robby is Jack's . brother  
cousin  
son
- E. Robby is  years old now. 9  
4  
13

2 Прочитайте текст вслух. У Вас есть полторы минуты на подготовку и полторы минуты, чтобы прочитать текст вслух.

Canada is the world's second largest country. This country has very friendly people. It makes Canada a great place to visit on your holidays. In Canada you will find a lot of good hotels and cafes. They will make your stay comfortable. If you choose to go to Canada, you must see its natural sights. Canada has nice rivers and lakes. There are also forests and waterfalls. Besides nature, you can see Canada's cities. They offer good shopping. There are also interesting buildings and historical museums. You will never forget your visit to Canada.

3 Выберите фотографию и опишите человека на ней. У Вас есть полторы минуты на подготовку и не более двух минут для ответа. У Вас должен получиться связный рассказ (7–8 предложений). План ответа поможет Вам:

- the place
- the action
- the person's appearance
- whether you like the picture or not
- why

Start with: "I'd like to describe picture № ... . The picture shows ..."



Photo 1



Photo 2



Photo 3

- 1 clothes
- 2 transport
- 3 leisure activities

- 4 weather
- 5 sport competitions
- 6 city

4 Установите соответствие между текстами и их темами, выбрав тему из выпадающего списка. Используйте каждую тему только один раз. В задании одна тема лишняя.

A) This text deals with...

Russian summers are quite warm and sunny. Many cities such as Moscow and even those as far east as Tomsk can experience intense heat waves. The temperature may rise to +30°C and above. However, brief heavy showers and even thunderstorms occur unexpectedly; it's good to carry a small travel umbrella with you even on the sunniest days.

B) This text deals with...

Millions of people around the world watch the Tour de France cycle race on their TV screens and tablets. The greatest number of fans come for the final stage of the event when it comes to Paris. Hundreds of thousands of people line the route of the race each day. Because of the crowds and the excitement, there is often a party or carnival atmosphere.

C) This text deals with...

There are a lot of cars, buses and a big underground in London, but city residents are looking for new ways to travel round the city. For example, London's public bicycle scheme will help you get around quickly and easily. You simply hire a bike from one of the hundreds of docking stations across the city, ride it where you like, then return it to any of those stations.

D) This text deals with...

Sports in Greece are developing every year. Many people from different countries come to Greece to try extreme sports like windsurfing, sailing, mountain biking and lots of others. Most trainers and guides are experienced and speak foreign languages well. All locations where sports are organized are magnificent in natural beauty.

E) This text deals with...

It can be really hard to dress for a rainy day because there are so many things to consider. Don't be scared to wear something bright on a rainy day. Bad weather can be depressing, so why not go out of your way to wear something non-depressing and cute. Just put on a bright waterproof jacket and take your colourful umbrella!

5

Peter Watson is twelve years old and he lives in London, the UK. He goes to school. He is very busy because at school he studies  subjects such as English and Math. He also studies a foreign language. He studies Russian. Peter's parents are very happy with his choice.  think Russia is a great country. Russian is a very difficult language but now Peter  read and write in Russian very well. Peter likes Russian. For him Russian is the  language in the world. Last year Peter  to Russia on an exchange programme. He spent two weeks in Moscow and made some friends there. He hopes to visit Russia again in the future.

1 little  
few  
many  
much

2 they  
them  
their  
themselves

3 can  
can't  
could  
couldn't

4 interesting  
more interesting  
less interesting  
most interesting

5 go  
went  
had gone  
will go

6

1 around 2 away 3 down 4 looked 5 said 6 saw 7 spoke

### Going on a Hike

Tamara and her family were going on a hike. They got into the car early in the morning. They drove for two hours until they were far  from the city. Once they left the city and the suburbs, there weren't many buildings beside the road. Instead there were trees and fields. Tamara  herds of cows chewing on grass. The road climbed up. They were driving into the mountains. Tamara rolled down her window. The air was cool, and she liked it. It smelled like leaves and flowers. Soon, Tamara's father parked the car.

"Are we here? Is this the hike?" asked Tamara and  at her brother James.

"Yes," he . "See that trail? That's where we'll start hiking. Let's go, I'll show you !" James had hiked this trail before, and it was one of his favourites.



**Проверочная работа  
по БИОЛОГИИ**

**7 КЛАСС**

**Образец**

**Инструкция по выполнению работы**

На выполнение работы по биологии отводится 45 минут. Работа включает в себя 10 заданий.

Ответы на задания запишите в поля ответов в тексте работы. В случае записи неверного ответа зачеркните его и запишите рядом новый.

При выполнении работы не разрешается пользоваться учебником, рабочими тетрадями и другим справочным материалом.

При необходимости можно пользоваться черновиком. Записи в черновике проверяться и оцениваться не будут.

Советуем выполнять задания в том порядке, в котором они даны. В целях экономии времени пропускайте задание, которое не удаётся выполнить сразу, и переходите к следующему. Если после выполнения всей работы у Вас останется время, то Вы сможете вернуться к пропущенным заданиям.

***Желаем успеха!***

Таблица для внесения баллов участника

Номер задания	1.1	1.2	2	3	4	5	6.1	6.2	7.1	7.2	8	9	10.1	10.2	Сумма баллов	Отметка за работу
Баллы																

1 Рассмотрите фотографии с изображением различных объектов живой природы.

1.1. Подпишите их названия, используя слова из предложенного списка: *хвощи, голосеменные, папоротники, мхи.*



А. \_\_\_\_\_



Б. \_\_\_\_\_



В. \_\_\_\_\_



Г. \_\_\_\_\_

1.2. Три из изображённых на фотографиях объектов объединены общим признаком. Выпишите название объекта, «выпадающего» из общего ряда. Объясните свой выбор.

Ответ. \_\_\_\_\_  
\_\_\_\_\_

2 Каково значение растений в природе?

Ответ. \_\_\_\_\_  
\_\_\_\_\_

3

Светлана и Константин собрали и подготовили для гербария образцы растений. Для каждого растения им необходимо составить «паспорт», соответствующий положению этого растения в общей классификации организмов. Помогите ребятам записать в таблицу **слова** из предложенного списка в такой последовательности, чтобы получился «паспорт» растения.

Список слов:

- 1) Папоротниковидные
- 2) Растения
- 3) Хвощовые
- 4) Хвощ полевой
- 5) Хвощ

Царство	Отдел	Класс	Род	Вид

4

Известно, что **подосиновик** – съедобный шляпочный гриб. Используя эти сведения, выберите из приведённого ниже списка два утверждения, относящиеся к описанию **данных** признаков этого гриба.

Запишите в ответе цифры, соответствующие выбранным ответам.

- 1) У подосиновика образуется плодовое тело.
- 2) Срок жизни подосиновика составляет около 11 дней.
- 3) Подосиновики преимущественно произрастают в смешанных и лиственных лесах.
- 4) В клеточных стенках подосиновика содержится вещество хитин.
- 5) В клетках подосиновика содержатся углеводы, жиры, белки, минеральные вещества и витамины.

Ответ.

--	--

5

Выберите из предложенного списка и вставьте в текст пропущенные слова, используя для этого их цифровые обозначения. Впишите номера выбранных слов на места пропусков в тексте.

### Бактерии

Бактерии – просто устроенные микроскопические организмы. Бактериальная клетка сохраняет постоянную форму, так как окружена плотной \_\_\_\_\_ (А). Ядерное вещество у бактерий расположено в \_\_\_\_\_ (Б). При недостатке пищи, влаги и при резких изменениях температуры бактериальная клетка образует \_\_\_\_\_ (В).

Список слов:

- 1) мембрана
- 2) яйцо
- 3) оболочка
- 4) ядро
- 5) цитоплазма
- 6) спора

Запишите в таблицу выбранные цифры под соответствующими буквами.

Ответ.

А	Б	В

6

6.1. Установите соответствие между характеристиками и классами растений: к каждой позиции, данной в первом столбце, подберите соответствующую позицию из второго столбца.

## ХАРАКТЕРИСТИКИ

- А) цветок с простым околоцветником  
 Б) количество частей цветка кратно четырём или пяти  
 В) листья с дуговым или параллельным жилкованием  
 Г) корневая система чаще стержневая  
 Д) преимущественно травянистые формы  
 Е) семя содержит одну семядолю

## КЛАССЫ РАСТЕНИЙ

- 1) Однодольные  
 2) Двудольные

Запишите в таблицу выбранные цифры под соответствующими буквами.

Ответ.

А	Б	В	Г	Д	Е

6.2. Приведите по три примера растений, относящихся к указанным классам. Запишите их названия в таблицу.

Однодольные	Хвойные

7

7.1. К какому классу относят растение, диаграмма цветка которого показана на рисунке 1?

- 1) Двудольные  
 2) Голосеменные  
 3) Однодольные  
 4) Папоротниковые



Рисунок 1

Ответ.

7.2. Какой признак, показанный на диаграмме цветка (рис.1), позволяет определить принадлежность растения к этому классу? Почему?

Ответ. \_\_\_\_\_

8 Верны и следующие суждения о строении цветка растений?

- А. Тычинки являются мужскими органами размножения, а пестики – женскими.  
 Б. В состав околоцветника входят цветоножка, чашечка и венчик.

- 1) верно только А  
 2) верно только Б  
 3) оба суждения верны  
 4) оба суждения неверны

Ответ.

9 Рассмотрите изображения шести представителей мира растений. Предложите основание, согласно которому эти растения можно разделить на две группы по три представителя в каждой.



Перец однолетний



Лапчатка



Абрикос



Земляника



Редька дикая



Чина луговая

Заполните таблицу: запишите в неё основание, по которому были разделены растения, общее название для каждой группы растений и перечислите растения, которые вы отнесли к этой группе.

Номер группы	Какое основание позволило разделить растения?	Как называется данная группа растений?	Какие растения относятся к данной группе?
Группа 1			
Группа 2			



10

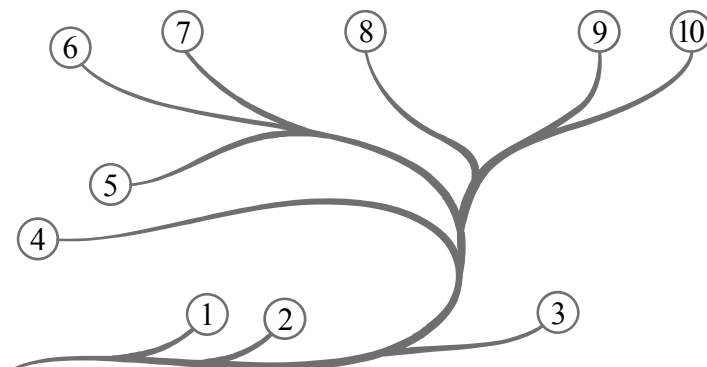
10.1. Рассмотрите изображения растений: кукушкин лён, ламинария, баклажан. Подпишите их названия под соответствующими изображениями. Под каждым названием растения укажите среду его обитания: наземно-воздушная, водная.



Название			
Среда обитания			

10.2. Рассмотрите схему, отражающую развитие растительного мира Земли.

- 1 – Зелёные водоросли
- 2 – Красные водоросли
- 3 – Бурые водоросли
- 4 – Мхи
- 5 – Плауны
- 6 – Папоротники
- 7 – Хвои
- 8 – Голосеменные
- 9 – Однодольные
- 10 – Двудольные



Какими цифрами на схеме обозначены группы организмов, к которым относят изображённые на рисунках растения? Запишите в таблицу номера соответствующих групп.

Кукушкин лён	Ламинария	Баклажан

### Система оценивания проверочной работы

Правильный ответ на каждое из заданий 1.1, 7.1, 8, оценивается 1 баллом.

Правильный ответ на задание 3 оценивается 2 баллами. Если в ответе переставлены местами два элемента, выставляется 1 балл, более двух элементов – 0 баллов.

Полный правильный ответ на каждое из заданий 4, 5, 6.1, 10.2 оценивается 2 баллами. Если в ответе допущена одна ошибка (в том числе написана лишняя цифра, или не написана одна необходимая цифра), выставляется 1 балл; если допущено две или более ошибки – 0 баллов.

Номер задания	Правильный ответ				
1.1	А – папоротники Б – мхи В – голосеменные Г – хвощи				
3	Царство	Отдел	Класс	Род	Вид
	Растения	Папоротниковидные	Хвощовые	Хвощ	Хвощ полевой
	ИЛИ				
	Царство	Отдел	Класс	Род	Вид
	2	1	3	5	4
4	15				
5	356				
6.1	121211				
7.1	1				
8	1				
10.2	кукушкин лён – 4 ламинария – 3 баклажан – 10				

1

1.2. Три из изображённых на фотографиях объектов объединены общим признаком. Выпишите название объекта, «выпадающего» из общего ряда. Объясните свой выбор.

<b>Содержание верного ответа и указания к оцениванию</b> (допускаются иные формулировки ответа, не искажающие его смысла)	<b>Баллы</b>
Правильный ответ должен содержать следующие <u>элементы</u> : 1) <u>объект</u> : голосеменные; 2) <u>объяснение</u> , например: могут размножаться семенами Объяснение может быть дано в иной, близкой по смыслу формулировке, не искажающей его смысла	
Правильно определён объект и дано объяснение	2
Правильно определён объект, объяснение отсутствует / дано неправильно.	1
Объект определён неправильно / не определён независимо от наличия/отсутствия объяснения. ИЛИ Ответ неправильный	0
<i>Максимальный балл</i>	2

2

Каково значение растений в природе?

<b>Содержание верного ответа и указания к оцениванию</b> (допускаются иные формулировки ответа, не искажающие его смысла)	<b>Баллы</b>
Правильный ответ должен содержать <u>указание на значение растений в природе</u> , например: зелёные растения выделяют кислород, необходимый для дыхания как самих растений, так и для других организмов, ИЛИ растения образуют из неорганических веществ органические, которые являются пищей для животных, грибов и человека	
Правильно указано значение	1
Ответ неправильный	0
<i>Максимальный балл</i>	1

6

6.2. Приведите по три примера растений, относящихся к указанным классам. Запишите их названия в таблицу.

<b>Указания к оцениванию</b>	<b>Баллы</b>
Правильный ответ должен содержать <u>по три примера</u> растений, относящихся к классам Однодольные и Хвойные	
Правильно указано по три примера растений в каждом классе	2
Правильно приведено два-три примера растений, относящихся к одному классу, и два примера растений, относящихся к другому классу	1
Все иные ситуации, не соответствующие правилам выставления 2 и 1 балла. ИЛИ Ответ неправильный	0
<i>Максимальный балл</i>	2

7

7.2. Какой признак показанный на диаграмме цветка (рис.1), позволяет определить принадлежность растения к этому классу? Почему?

Содержание верного ответа и указания к оцениванию (допускаются иные формулировки ответа, не искажающие его смысла)	Баллы
Правильный ответ должен содержать следующие <u>элементы</u> : 1) <u>признак</u> : число частей (тычинок, чашелистиков, лепестков) цветка; 2) <u>объяснение</u> , например: у двудольных число частей кратно 5 или 4 / двойной околоцветник	
Правильно указан признак и дано объяснение	2
Правильно указан только признак	1
Признак не указан / указан неправильно	0
<i>Максимальный балл</i>	2

9

Рассмотрите изображения шести представителей мира растений. Предложите основание, согласно которому эти растения можно разделить на две группы. Заполните таблицу: запишите в неё основание, по которому были разделены растения, общее название для каждой группы растений и перечислите растения, которые вы отнесли к этой группе.

Содержание верного ответа и указания к оцениванию (допускаются иные формулировки ответа, не искажающие его смысл)	Баллы
Правильный ответ должен содержать следующие <u>элементы</u> : <u>Основание</u> – окультуривание (выведение человеком для получения пищевых продуктов); 1) <u>группа 1</u> – культурные растения: абрикос, перец однолетний, земляника 2) <u>группа 2</u> – дикорастущие растения: чина луговая, редька дикая, лапчатка	
Правильно заполнены пять ячеек таблицы	3
Без ошибок заполнены только четыре любые ячейки таблицы	2
Без ошибок заполнены только три любые ячейки таблицы	1
Все иные ситуации, не соответствующие правилам выставления 3, 2 и 1 балла. ИЛИ Ответ неправильный	0
<i>Максимальный балл</i>	3

10

10.1. Рассмотрите изображения растений: кукушкин лён, ламинария, баклажан. Подпишите их названия под соответствующими изображениями.

Под каждым названием растения укажите среду его обитания: наземно-воздушная, водная.



Название	Ламинария	Кукушкин лён	Баклажан
Среда обитания	Водная	Наземно-воздушная	Наземно-воздушная

Указания по оцениванию	Баллы
Верно подписаны названия трёх растений и указаны среды их обитания	2
Верно подписаны названия не менее двух растений и указаны среды обитания одного-двух из них. ИЛИ Верно подписаны только названия трёх растений, среды обитания не указаны / указаны неверно	1
Все иные ситуации, не соответствующие правилам выставления 2 и 1 балла. ИЛИ Ответ неправильный	0
<i>Максимальный балл</i>	2

### Система оценивания выполнения всей работы

Максимальный первичный балл – 25.

*Рекомендации по переводу первичных баллов в отметки по пятибалльной шкале*

Отметка по пятибалльной шкале	«2»	«3»	«4»	«5»
Первичные баллы	0–8	9–14	15–19	20–25

**Проверочная работа  
по ГЕОГРАФИИ**

**7 КЛАСС**

**Образец**

**Инструкция по выполнению работы**

На выполнение работы по географии даётся 45 минут. Работа включает в себя 8 заданий.


Ответы на задания запишите в поля ответов в тексте работы. В случае записи неверного ответа зачеркните его и запишите рядом новый.

При вычислениях разрешается использовать непрограммируемый калькулятор. Для выполнения задания 2 Вам потребуются карандаш.

При выполнении работы не разрешается пользоваться учебником, рабочими тетрадями, атласом и другим справочным материалом.

При необходимости можно пользоваться черновиком. Записи в черновике проверяться и оцениваться не будут.

Советуем выполнять задания в том порядке, в котором они даны. В целях экономии времени пропускайте задание, которое не удаётся выполнить сразу, и переходите к следующему. Если после выполнения всей работы у Вас останется время, то Вы сможете вернуться к пропущенным заданиям.

Значком  отмечены задания, ответы на которые фиксируются на картах, приведённых на страницах 2, 11.

***Желаем успеха!***

*Таблица для внесения баллов участника*

Номер задания	1.1	1.2	1.3	2.1	2.2	2.3	3.1	3.2	3.3	4.1	4.2	5.1	5.2	6.1	6.2	6.3
Баллы																
				Номер задания	7.1	7.2	8.1	8.2	Сумма баллов	Отметка за работу						
				Баллы												




**Задания 1–3 выполняются с использованием карты мира, приведённой на странице 2.**

1 На карте мира, приведённой на странице 2, изображён маршрут экспедиции одного из путешественников, портреты которых представлены ниже. Рассмотрите карту и портреты путешественников и выполните задания.

1.1. Маршрут экспедиции кого из путешественников изображён на карте?



Давид Ливингстон



Афанасий Никитин



Н.М. Пржевальский

Ответ. \_\_\_\_\_



Подпишите на карте название материка, по которому проходил маршрут экспедиции.



1.2. На карте буквами обозначены объекты, определяющие географическое положение материка, по которому проходил маршрут экспедиции. Выберите из приведённого списка и запишите в таблицу названия этих объектов.

*Тихий океан, Средиземное море, Северный полярный круг,  
Северный тропик, Чёрное море, Северный Ледовитый океан.*

А	Б	В



1.3. По линии маршрута экспедиции отмечены точки, расположенные на территории крупных географических объектов. Определите и запишите в ответе географические координаты точки 2.

Ответ. \_\_\_\_\_

На территории какого географического объекта расположена точка 2? Запишите в ответе его название.



Ответ. \_\_\_\_\_



2

На уроке географии Сергей построил профиль рельефа Южной Америки, представленный на рисунке. Используя рисунок 1 и карту мира, приведённую на странице 2, выполните задания.

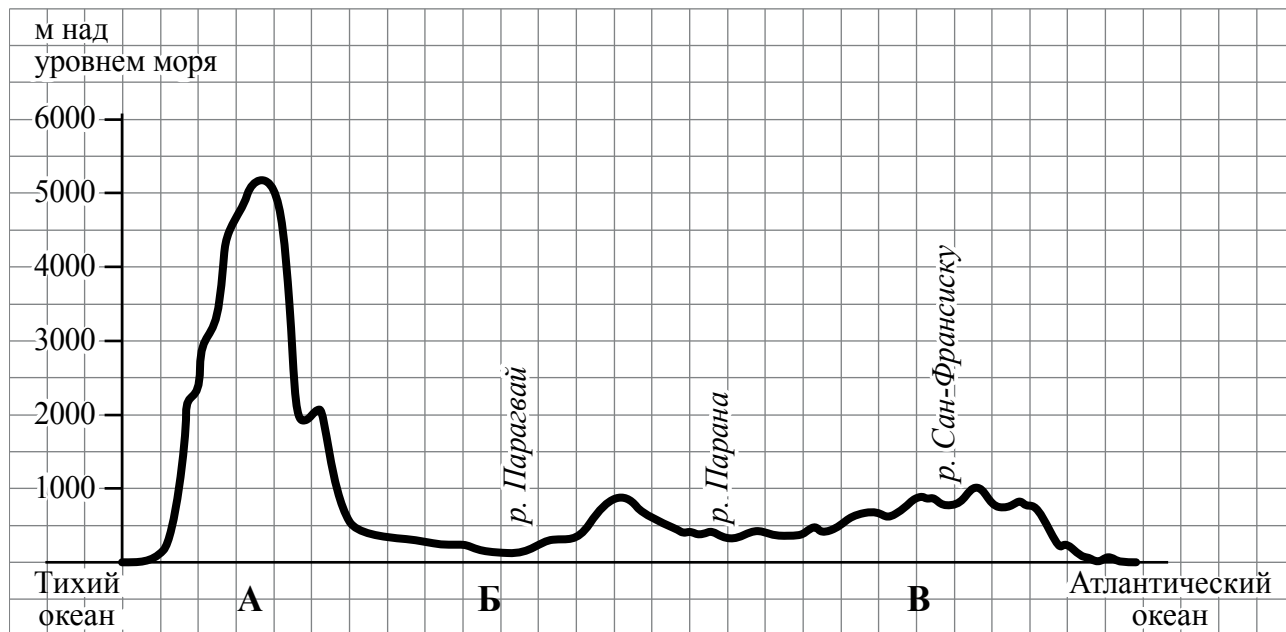


Рисунок 1

2.1. По какому из отрезков, проведённых на карте вдоль трёх параллелей, пересекающих материк Южная Америка, построен профиль рельефа, представленный на рисунке 1? Укажите в ответе значение параллели.

Ответ. \_\_\_\_\_

Определите по карте протяжённость материка Южная Америка **в градусах** по указанной Вами параллели.

Ответ. \_\_\_\_\_ °.

Рассчитайте протяжённость материка Южная Америка по указанной Вами параллели **в километрах** с помощью приведённой ниже таблицы. (Для расчёта воспользуйтесь калькулятором.)

Широта	0°	10°	20°	30°	40°	50°	60°	70°	80°	90°
Длина дуги параллели в 1°, км	111,3	109,6	104,6	96,5	85,4	71,7	55,8	38,2	19,4	0



Ответ. \_\_\_\_\_ км.

2.2. Какой крупной форме рельефа соответствует участок профиля, обозначенный на рисунке 1 буквой В?

- 1) Амазонская низменность
- 2) горы Анды
- 3) Бразильское плоскогорье
- 4) Ла-Платская низменность

Ответ.

Определите наибольшую абсолютную высоту территории, через которую проходит профиль на этом участке.



Ответ. \_\_\_\_\_ м.

2.3. На рисунке 2 представлены значки, которыми обозначаются месторождения полезных ископаемых на географических картах.



Рисунок 2

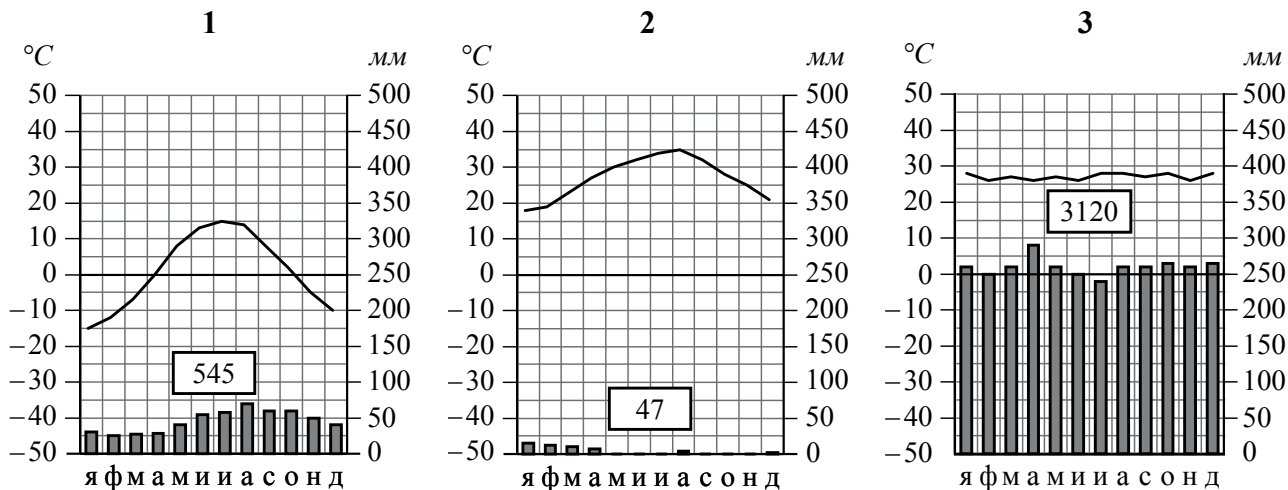
Внесите в таблицу значки, обозначающие месторождения полезных ископаемых, которые добывают на территории, обозначенной на профиле буквой В.



Железные руды	Алмазы	Марганцевые руды	Алюминиевые руды

**3** Рассмотрите карту мира и рисунки с изображением климатограмм, построенных по данным метеонаблюдений в разных частях Земли, и выполните задания.

3.1. На карте мира территории, для которых построены изображённые на рисунках климатограммы, показаны квадратами с соответствующими номерами климатограмм. Определите, какому климатическому поясу соответствует каждая климатограмма. Подпишите названия климатических поясов под соответствующими климатограммами.



3.2. Какой природной зоне мира соответствуют приведённые ниже характеристики? Укажите в ответе название этой природной зоны.

- 1) Занимает большие территории в Северном полушарии (в Северной Америке и Евразии).
- 2) Чётко выражены сезоны года.
- 3) В растительном покрове преобладают хвойные деревья.
- 4) Формируются подзолистые почвы.
- 5) Типичные представители животного мира: бурый медведь, лисица, волк, белка.

Ответ. \_\_\_\_\_

Выберите климатограмму, соответствующую климатическим особенностям указанной Вами природной зоны. Запишите в ответе её номер.

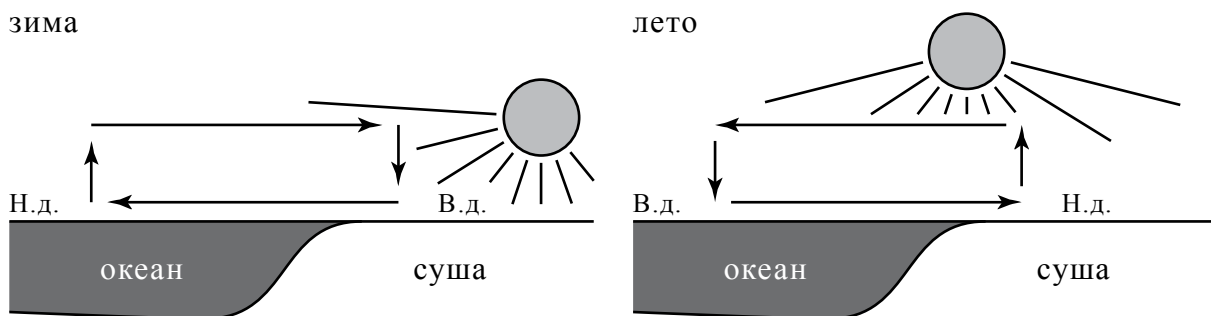
Ответ.

3.3. По выбранной климатограмме заполните таблицу климатических показателей для указанной Вами природной зоны.

Средняя температура воздуха, °C		Годовая амплитуда температур, °C	Годовое количество осадков, мм	Месяц, на который приходится наибольшее количество осадков
в январе	в июле			

4

Рассмотрите схему природного процесса и выполните задания.



Н.д. – низкое давление  
В.д. – высокое давление

4.1. Какой природный процесс отображён на схеме?

Ответ. \_\_\_\_\_

4.2. Установите последовательность этапов указанного Вами природного процесса **в летний период**. Запишите в ответе **порядковые номера** этапов.

ЭТАПЫ:

- 1) Воздух перемещается из области высокого давления в область низкого давления – с океана в сторону суши.
- 2) Летом суша прогревается сильнее, чем поверхность океана, и лёгкий тёплый воздух поднимается вверх.
- 3) Подъём тёплого воздуха обеспечивает формирование над сушей области пониженного давления.
- 4) Тяжёлый холодный воздух формирует над океаном область повышенного давления.
- 5) Нагревание воздуха над океаном происходит медленнее, чем над сушей, и над поверхностью океана скапливается тяжёлый холодный воздух.

Ответ.

--	--	--	--	--	--

5

5.1. Установите соответствие между материками и их географическими особенностями.

**Материки**

А – Северная Америка

Б – Африка

**Географические особенности**

- 1) Наибольшую площадь материка занимает природная зона пустынь.
- 2) На западе материка расположена одна из самых крупных горных систем мира.
- 3) К северу от материка расположен один из крупнейших архипелагов мира.
- 4) Недра северной части материка богаты нефтью.
- 5) Для центральной части материка характерны ураганы и атмосферные смерчи – торнадо.
- 6) Восточная часть материка – это современная рифтовая зона с глыбовыми горами и глубочайшими впадинами, многие из которых заняты озёрами.

Запишите в таблицу выбранные цифры под буквами, которыми обозначены материки.

□

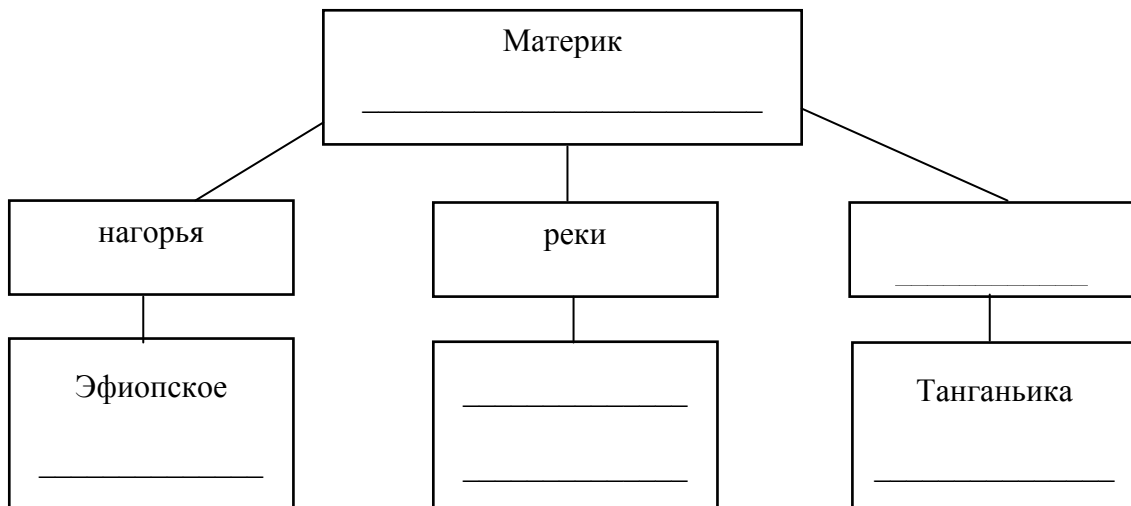
Ответ.

Материк	<b>А</b>	<b>Б</b>
Географические особенности		

5.2. Заполните блок-схему: для этого по указанным на схеме названиям географических объектов, определите и запишите название одного из двух материков, указанных в задании 5.1, а затем выберите из списка названия других географических объектов, расположенных на территории этого материка, запишите их в соответствующие ячейки на схеме и заполните оставшиеся пустые ячейки.

*Конго, Ориноко, Ниагара, Виктория, Амур, Анды, Кавказ, Тибести, Байкал, Замбези, Анпалачи, Тибет.*

□



**Задание 6 выполняется с использованием политической карты мира, приведённой на странице 11.**

6


Томас и Акио познакомились на чемпионате мира по футболу. Акио живёт в столице Японии, а Томас – в столице Германии. Подростки общаются через Интернет, и при общении им приходится учитывать разницу во времени между их городами.



6.1. На политической карте мира, приведённой на странице 11, выделите штриховкой страны, в которых живут подростки.



6.2. Вследствие вращения Земли время различается в разных её частях, и в Японии день наступает раньше, чем в Германии. Часы на рисунках отображают время в городах, где живут подростки. Подпишите названия городов под соответствующими часами.




Гринвич

24 мая  
00:00 (полночь)



24 мая  
01:00

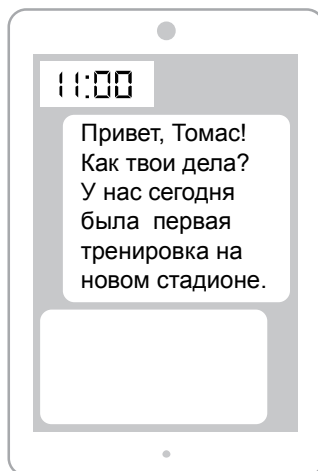


24 мая  
09:00

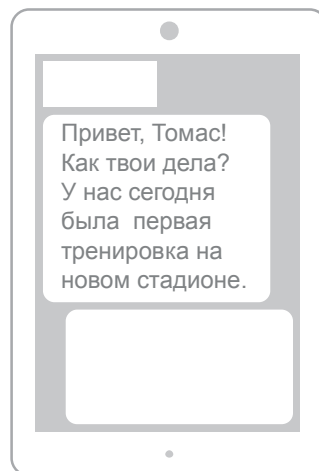


6.3. Акио отправил Томасу электронное сообщение в 11:00 по местному времени.

*Акио*



*Томас*



Какое время будет отображаться в соответствующем окне на экране смартфона Томаса, когда он получит сообщение от Акио?



Ответ. \_\_\_\_\_

7

Используя представленную ниже таблицу выполните задания.

**Численность и состав населения, 2017 г.**

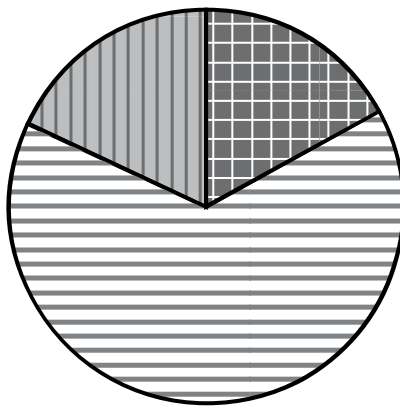
№	Страна	Численность населения, млн человек	Возрастной состав, %		
			Доля населения в возрасте до 15 лет	Доля населения в возрасте от 15 до 65 лет	Доля населения в возрасте старше 65 лет
1	Бразилия	211	22	69	9
2	Великобритания	66	17	65	18
3	Нигер	22	49	48	3
4	Япония	126	13	59	28

7.1. Расположите страны в порядке **увеличения** численности населения, начиная со страны с самой маленькой численностью. Запишите в ответе последовательность **порядковых номеров** этих стран.

Ответ.

--	--	--	--

7.2. Возрастной состав населения какой страны отражает представленная на рисунке диаграмма? Запишите в ответе **название** страны.



доля населения в возрасте до 15 лет



доля населения в возрасте от 15 до 65 лет



доля населения в возрасте 65 лет и старше

Ответ. \_\_\_\_\_

Код




Карта для выполнения заданий 6 и 7





8 Представьте, что Вы познакомились со своим сверстником, который живёт за границей, и он прислал Вам фотографии, сделанные в его стране.

8.1. Рассмотрите фотографии и ответьте на вопрос.



В какой стране живёт Ваш сверстник?

Ответ. \_\_\_\_\_

8.2. Рассмотрите представленные ниже рисунки. Выберите рисунок с контуром страны, в которой живёт Ваш сверстник. Запишите в ответе букву, которой обозначен этот рисунок.



А



Б



В

Ответ.

В какой части света находится эта страна?

Ответ. \_\_\_\_\_

## Система оценивания проверочной работы

Полный правильный ответ на каждое из заданий 4.1, 6.3, 7.2, 8.1 оценивается 1 баллом. Если в ответе допущена хотя бы одна ошибка (один из элементов ответа записан неправильно или не записан), выставляется 0 баллов.

Полный правильный ответ на каждое из заданий 1.2, 3.1, 4.2, 5.1 и 7.1 оценивается 2 баллами. Если в ответах на задания 1.2, 3.1 допущена одна ошибка или в ответах на задания 4.2, 5.1, 7.1 перепутаны местами две цифры, выставляется 1 балл; если допущено две или более ошибки – 0 баллов.

Номер задания	Правильный ответ
1.2	А – Северный Ледовитый океан Б – Северный полярный круг В – Средиземное море
3.1	1 – умеренный 2 – тропический 3 – экваториальный
4.1	образование муссона
4.2	23541 <i>Если за выполнение задания 4.1 выставлено 0 баллов, результат выполнения данного задания не засчитывается</i>
5.1	А – 235 (в любой последовательности) Б – 146 (в любой последовательности)
6.3	03:00
7.1	3241
7.2	Великобритания
8.1	в Италии

1

На карте мира, приведённой на странице 2, изображён маршрут экспедиции одного из путешественников, портреты которых представлены ниже. Рассмотрите карту и портреты путешественников и выполните задания.

1.1. Маршрут экспедиции кого из путешественников изображён на карте?



Давид Ливингстон



Афанасий Никитин



Н.М. Пржевальский

Подпишите на карте название материка, по которому проходил маршрут экспедиции.

Содержание верного ответа и указания по оцениванию	Баллы
Правильный ответ должен содержать следующие <u>элементы</u> : 1) указание <u>путешественника</u> : Афанасий Никитин; 2) подпись <u>названия материка на карте</u> : Евразия	
Правильно указан путешественник, подписан материк	2
Правильно указан путешественник; название материка на карте не подписано / подписано неправильно	1
Путешественник не указан / указан неправильно независимо от подписи названия материка на карте. ИЛИ Ответ неправильный	0
<i>Максимальный балл</i>	<i>2</i>

1.3. По линии маршрута экспедиции отмечены точки, расположенные на территории крупных географических объектов. Определите и запишите в ответе географические координаты точки 2.

На территории какого географического объекта расположена точка 2? Запишите в ответе его название.

Содержание верного ответа и указания по оцениванию	Баллы
Правильный ответ должен содержать <u>два элемента</u> : 1) <u>координаты точки</u> : 18° с.ш. 79° в.д. ( <i>допускается погрешность ±1°</i> ); 2) <u>название географического объекта</u> : полуостров Индостан	
Правильно указаны координаты точки и название географического объекта	2
Правильно указаны координаты точки, название географического объекта не указано / указано неправильно	1
Координаты точки не указаны / указаны неправильно независимо от указания названия географического объекта. ИЛИ Ответ неправильный	0
<i>Максимальный балл</i>	<i>2</i>

2

На уроке географии Сергей построил профиль рельефа Южной Америки, представленный на рисунке. Используя рисунок 1 и карту мира, приведённую на странице 2, выполните задания.

2.1. По какому из отрезков, проведённых на карте вдоль трёх параллелей, пересекающих материк Южная Америка, построен профиль рельефа, представленный на рисунке 1? Укажите в ответе значение параллели.

Определите по карте протяжённость материка Южная Америка **в градусах** по указанной Вами параллели.

Рассчитайте протяжённость материка Южная Америка по указанной Вами параллели **в километрах** с помощью приведённой ниже таблицы. (Для расчёта воспользуйтесь калькулятором.)

Широта	0°	10°	20°	30°	40°	50°	60°	70°	80°	90°
Длина дуги параллели в 1°, км	111,3	109,6	104,6	96,5	85,4	71,7	55,8	38,2	19,4	0

Содержание верного ответа и указания по оцениванию	Баллы
Правильный ответ должен содержать <u>три элемента</u> : 1) <u>значение параллели</u> : 20° ю.ш.; 2) <u>протяжённость материка в градусах</u> : 30° ( <i>допускается погрешность ±1°</i> ); 3) <u>протяжённость материка в километрах</u> : 3138 км ( <i>допускается соответствующая погрешность в километрах</i> )	
Правильно указаны значение параллели, протяжённость материка в градусах и протяжённость материка в километрах	2
Правильно указаны значение параллели и протяжённость материка в градусах, протяжённость материка в километрах не указана / указана неправильно	1
Правильно указано только значение параллели; протяжённость материка в градусах и протяжённость материка в километрах не указаны / указаны неправильно. Значение параллели не указано / указано неправильно независимо от указания двух других элементов ответа. ИЛИ Ответ неправильный	0
<i>Максимальный балл</i>	2

2.2. Какой крупной форме рельефа соответствует участок профиля, обозначенный на рисунке 1 буквой В?

Определите наибольшую абсолютную высоту территории, через которую проходит профиль на этом участке.

Содержание верного ответа и указания по оцениванию	Баллы
Правильный ответ должен содержать <u>два элемента</u> : 1) <u>указание формы рельефа</u> : 3; 2) <u>абсолютная высота территории</u> : 1000 м	
Правильно указана форма рельефа и определена абсолютная высота территории	2
Правильно указана форма рельефа; абсолютная высота территории не определена / определена неправильно	1
Форма рельефа не указана / указана неправильно независимо от определения абсолютной высоты территории. ИЛИ Ответ неправильный	0
<i>Максимальный балл</i>	2

2.3. На рисунке 2 представлены значки, которыми обозначаются месторождения полезных ископаемых на географических картах.

Внесите в таблицу значки, обозначающие месторождения полезных ископаемых, которые добывают на территории, обозначенной на профиле буквой В.

Содержание верного ответа и указания по оцениванию	Баллы								
Правильный ответ должен содержать <u>таблицу</u> с внесёнными в неё значками полезных ископаемых:									
<table border="1" style="width: 100%; text-align: center;"> <tr> <td>Железные руды</td> <td>Алмазы</td> <td>Марганцевые руды</td> <td>Алюминиевые руды</td> </tr> <tr> <td></td> <td></td> <td></td> <td></td> </tr> </table>	Железные руды	Алмазы	Марганцевые руды	Алюминиевые руды					
Железные руды	Алмазы	Марганцевые руды	Алюминиевые руды						
									
Правильно заполнены четыре ячейки таблицы	2								
Правильно заполнены три ячейки таблицы	1								
Правильно заполнены одна-две ячейки таблицы. ИЛИ Все ячейки таблицы заполнены неправильно / не заполнены	0								
<i>Максимальный балл</i>	2								

3

3.2. Какой природной зоне мира соответствуют приведённые ниже характеристики? Укажите в ответе название этой природной зоны.

- 1) Занимает большие территории в Северном полушарии (в Северной Америке и Евразии).
- 2) Чётко выражены сезоны года.
- 3) В растительном покрове преобладают хвойные породы деревьев.
- 4) Формируются подзолистые почвы.
- 5) Типичные представители животного мира: бурый медведь, лисица, волк, белка.

Выберите климатограмму, соответствующую климатическим особенностям указанной Вами природной зоны. Запишите в ответе её номер.

Содержание верного ответа и указания по оцениванию	Баллы
Правильный ответ должен содержать <u>два элемента</u> : 1) <u>название природной зоны</u> : тайга; 2) <u>номер климатограммы</u> : 1	
Правильно указаны название природной зоны и номер климатограммы	2
Правильно указано название природной зоны; номер климатограммы не указан / указан неправильно	1
Название природной зоны не указано / указано неправильно независимо от указания номера климатограммы. ИЛИ Ответ неправильный	0
<i>Максимальный балл</i>	2

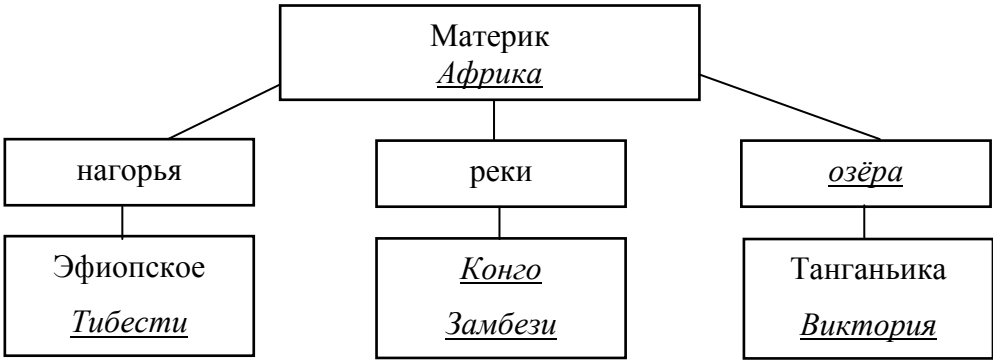
3.3. По выбранной климатограмме заполните таблицу климатических показателей для указанной Вами природной зоны.

Содержание верного ответа и указания по оцениванию					Баллы
Правильный ответ должен содержать <u>заполненную таблицу</u> :					
Средняя температура воздуха, °С		Годовая амплитуда температур, °С	Годовое количество осадков, мм	Месяц, на который приходится наибольшее количество осадков	
в январе	в июле				
-15	+15	30	545	август	
<i>Если в ответе на задание 3.2 номер климатограммы не указан / указан неправильно, то результат выполнения данного задания не засчитывается</i>					
Правильно заполнены все ячейки таблицы					2
В таблице допущена одна ошибка					1
В таблице допущено две или более ошибки. ИЛИ Ответ неправильный					0
<i>Максимальный балл</i>					2

5

5.2. Заполните блок-схему: для этого по указанным на схеме названиям географических объектов, определите и запишите название одного из двух материков, указанных в задании 5.1, а затем выберите из списка названия других географических объектов, расположенных на территории этого материка, запишите их в соответствующие ячейки на схеме и заполните оставшиеся пустые ячейки.

*Конго, Ориноко, Ниагара, Виктория, Амур, Анды, Кавказ, Тибести, Байкал, Замбези, Аппалачи, Тибет.*

Содержание верного ответа и указания по оцениванию	Баллы
<p>Правильный ответ должен содержать <u>заполненную схему</u> с вписанными в неё названием материка, типами и названиями географических объектов.</p> <div style="text-align: center;">  <pre> graph TD     A["Материк <u>Африка</u>"] --- B["нагорья"]     A --- C["реки"]     A --- D["<u>озёра</u>"]     B --- E["Эфиопское <u>Тибести</u>"]     C --- F["<u>Конго</u> <u>Замбези</u>"]     D --- G["Танганьика <u>Виктория</u>"]           </pre> </div>	
Схема заполнена правильно	3
В заполнении схемы допущена одна ошибка	2
В заполнении схемы допущено две ошибки	1
В заполнении схемы допущено три или более ошибки. ИЛИ Ответ неправильный	0
<i>Максимальный балл</i>	3


6

Томас и Акио познакомились на чемпионате мира по футболу. Акио живёт в столице Японии, а Томас – в столице Германии. Подростки общаются через Интернет, и при общении им приходится учитывать разницу во времени между их городами.



6.1. На политической карте мира, приведённой на странице 11, выделите штриховкой страны, в которых живут подростки.

Содержание верного ответа и указания по оцениванию	Баллы
Правильный ответ должен содержать <u>выделение на карте двух стран</u> : Японии и Германии	
Правильно выделены две страны	1
Правильно выделена только одна любая страна; вторая страна не выделена / выделена неправильно. ИЛИ Страны не выделены / выделены неправильно	0
<i>Максимальный балл</i>	<i>1</i>

6.2. Вследствие вращения Земли в разных её частях время различается, и в Японии день наступает раньше, чем в Германии. Часы на рисунках отображают время в городах, где живут подростки. Подпишите названия городов под соответствующими часами.



Гринвич

24 мая  
00:00 (полночь)Берлин24 мая  
01:00Токио24 мая  
09:00

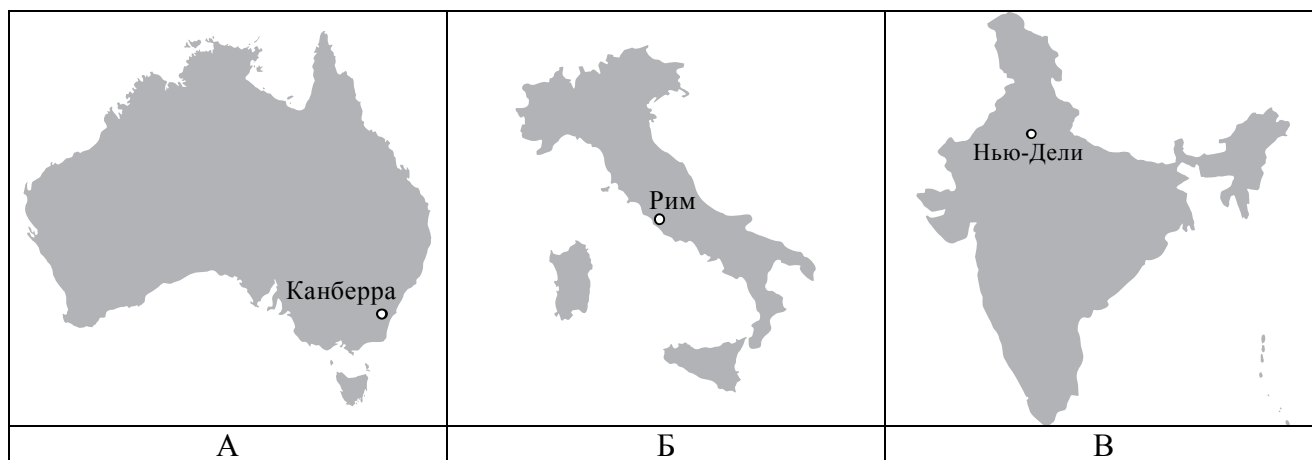
Содержание верного ответа и указания по оцениванию	Баллы
Правильный ответ должен содержать <u>подписи названий двух городов</u> : Берлина (столицы Германии) и Токио (столицы Японии)	
Правильно подписаны названия двух городов	1
Правильно подписано название только одного любого города; название второго города не подписано / подписано неправильно. ИЛИ Названия городов не подписаны / подписаны неправильно	0
<i>Максимальный балл</i>	<i>1</i>



8

8.2. Рассмотрите представленные ниже рисунки. Выберите рисунок с контуром страны, в которой живёт Ваш сверстник. Запишите в ответе букву, которой обозначен этот рисунок.

В какой части света находится эта страна?



Содержание верного ответа и указания по оцениванию	Баллы
Правильный ответ должен содержать <u>два элемента</u> : 1) <u>указание рисунка</u> с контуром страны: Б; 2) <u>ответ на вопрос</u> : в Европе <i>Если за выполнение задания 8.1 выставлено 0 баллов, результат выполнения данного задания не засчитывается</i>	
Правильно указан рисунок и дан ответ на вопрос	2
Правильно указан только рисунок, ответ на вопрос не дан / дан неправильно	1
Рисунок не указан / указан неправильно независимо от ответа на вопрос. ИЛИ Ответ неправильный	0
<i>Максимальный балл</i>	2

### Система оценивания выполнения всей работы

Максимальный первичный балл за выполнение работы – 35.

*Рекомендации по переводу первичных баллов в отметки по пятибалльной шкале*

Отметка по пятибалльной шкале	«2»	«3»	«4»	«5»
Первичные баллы	0–10	11–22	23–30	31–35

## Итоговая контрольная работа по ИКН за курс 7 класса

1. В конце 12-13 в две группы русских переселенцев встретились на притоке вятки – реке Хлыновице. В ее устье они основали город, ставший центром Вятской земли, что это за город?  
А. Хлыновец, Б. Арск В. Иднакар Г. Вятку

2. Назовите 2 самых крупные металлургические предприятия нашего края, построенные в 1759 и в 1760 году известным государственным деятелем графом П.И.Шуваловым  
А. Воткинский и Сарапульский Б. Воткинский и Ижевский В. Ижевский и Сарапульский

3. Причина крестьянской войны под предводительством Е. И. Пугачева в нашем крае и ее исход:

- А. недовольство крестьян социальным и национальным гнетом – восстание подавлено
- Б. недовольство крестьян социальным и национальным гнетом – повстанцы одерживают победу, правительство идет на некоторые уступки
- В. насильственная массовая христианизация - восстание подавлено

4. Что использовали удмуртские народы для покраски ткани  
А растительные красители  
Б. животные красители В. химические красители

5. Отметьте ритуальную постройку в удмуртской усадьбе  
А кенос Б куала В корка Г. баня

6. Отметьте причину, по которой удмурты-язычники не хотели принимать христианство

- А. новообращенных заставляли платить высокие налоги
- Б. боялись что утрата языческих верований приведут к исчезновению народа
- В. Всех христиан забирали в армию, а язычников освобождали от службы
- Г. Все вышеперечисленное

7. Кто из указанных исторических деятелей крестил детей?

- А. Петр 1 Б. Емельян Пугачев В. Инмар Г. Иван 3

8. Соотнесите определения с терминами

1. приписные крестьяне      2. Мануфактура      3 лашманы      4кенош
- А. Государственные крестьяне приписанные к промышленным предприятиям и обязанные выполнять на них вспомогательные работы в счет уплаты подушной подати
  - Б. Крупнее промышленное предприятие базирующееся на ручном труде
  - В Государственные крестьяне из числа бывших служилых людей
  - Г. Собрание всех жителей деревни, общины

9. Отметьте исчезающую птицу, занесенную в Красную Книгу

- А. Сапсан Б Орел В. Коршун Черный Г. Снегирь

10. Какое хищное растение произрастает в Удмуртии?

- А. Росянка Б. Зверобой В. Медуница Г. Хохлатка

11. Это животное помогало удмуртам найти место для строительства дома

- А. Бык Б. Кошка В. Лошадь Г. Овца

12. Расскажите о христианизации удмуртов, когда она происходила и как? кто такие старообрядцы

13. Дайте определение следующим словам

Полба            Ревизские сказки            Воршуд            Язычество            Шерть

14 опишите удмуртскую усадьбу, из чего она состояла, расскажите об особенностях внутреннего убранства крестьянского дома конца 18в

15.Что на Кулигинском базере не пользовалось спросом? Почему?

16.1) Озаглавьте текст    2) Составьте план    3) Совсем ли вы согласны? Почему?

История села Кулига насчитывает более 170 лет. Население - примерно полторы тысячи человек, преимущественно старообрядцы. Примечательно, что их духовным лицом является женщина - Прасковья Лазарева. Основным промышленным предприятием здесь является пункт по приемке и отправке молока в Кез, откуда оно попадает на стол ижевского потребителя. Жители села стремятся сохранить наследие предков. Так, в детском саду №1 разработана и внедряется программа по возрождению местной старообрядческой культуры. Кулигинский краеведческий музей бережно хранит старинные предметы быта и духовной жизни: монеты, орудия труда, найденные во время раскопок на территории села. Одна из комнат музея стилизована под старообрядческую избу, в которой привлекает внимание деревянная скамья, изготовленная без единого гвоздя.

В Кулиге можно увидеть картинки из жизни, напоминающие сюжеты старинных сказок. В покосившемся домишке, похожем на избушку Бабы-Яги, живет Евдокия Фоминична Порошина. Вот она изволила спуститься с печи, взяла в руки балалайку, долго играла на ней, а потом спела: «Балалаечка-гитара, ручка вересовая...». Благодаря Е.Ф. Порошиной и другим бабулям еще можно услышать обрядовые свадебные, рекрутские песни, былички о лешем или найти святочные колядки, которые сохранились лишь в рукописях.

Бытуют здесь и свои особенности: Рождеством называют всю неделю от Рождества до Крещения; на Масленицу готовят не блины, а пирог-рыбник и шаньги. Одна из улиц Кулиги именуется Шанхаем. Никто не может внятно объяснить, откуда пошло это название, какая здесь связь с Китаем, где проживает большое количество населения. Четыре дома в улице - совсем немного.

Отметим, что в Кулигу приезжают не только местные, но и московские и зарубежные собиратели фольклора. Гостей из Испании, Турции, Финляндии привлекло фольклорное действо. Обрядовые песнопения и традиции жителей села для них - экзотика. Ради нее зарубежные, в частности венгерские, языковеды и культурологи готовы организовывать дорогостоящие экспедиции в глубинку Удмуртии.

17. Судьба помещичьего землевладение не получило большого распространения

А. не получило большого распространения в нашем крае, т.к. было мало предприимчивых помещиков

Б. получило большое распространение

В не получило большого распространения, потому что вызвало массовый протест крестьян в следствии жесткой эксплуатации

Г. Нет правильного ответа

18. Отметьте комбинированную систему обработки земли и удобрения, которыми пользовались удмурты

А подсека и перелог - зола и навоз            Б. подсека, перелог, трехполье - зола и навоз

В. подсека, перелог, трехполье - использование химических удобрений наряду с навозом  
Г все вышеперечисленное

19. 3 главные божества удмуртов

20. Кто такой Пуцек-Григорович?

21. Кто присоединил удмуртов к Русскому государству?

**Проверочная работа  
по ИСТОРИИ****7 класс****Образец****Инструкция по выполнению работы**

На выполнение работы по истории даётся 45 минут. Работа включает в себя 9 заданий. Часть 1 работы посвящена истории России и истории зарубежных стран (история Нового времени), в части 2 предложено задание, связанное с памятью народа России о Великой Отечественной войне.

Ответы на задания запишите в поля ответов в тексте работы. В случае записи неверного ответа зачеркните его и запишите рядом новый.

При необходимости можно пользоваться черновиком. Записи в черновике проверяться и оцениваться не будут.

Советуем выполнять задания в том порядке, в котором они даны. В целях экономии времени пропускайте задание, которое не удаётся выполнить сразу, и переходите к следующему. Если после выполнения всей работы у Вас останется время, то Вы сможете вернуться к пропущенным заданиям.

***Желаем успеха!****Таблица для внесения баллов участника*

Номер задания	1	2	3	4	5	6	7	8	9	Сумма баллов	Отметка за работу
Баллы											

## Часть 1

**В этой части работы даны задания по истории России и истории зарубежных стран в Новое время.**

- 1 Установите соответствие между событиями (процессами) и их участниками: к каждой позиции первого столбца подберите соответствующую позицию из второго столбца.

## СОБЫТИЯ (ПРОЦЕССЫ)

## УЧАСТНИКИ

- |                                                                                                                                    |                                                                                                                               |
|------------------------------------------------------------------------------------------------------------------------------------|-------------------------------------------------------------------------------------------------------------------------------|
| <p>А) создание единой системы денежного обращения в России</p> <p>Б) Переяславская рада</p> <p>В) начало реформации в Германии</p> | <p>1) Елена Глинская</p> <p>2) Фернан Магеллан</p> <p>3) Д.Т. Трубецкой</p> <p>4) Мартин Лютер</p> <p>5) Б.М. Хмельницкий</p> |
|------------------------------------------------------------------------------------------------------------------------------------|-------------------------------------------------------------------------------------------------------------------------------|

Запишите в таблицу выбранные цифры под соответствующими буквами.

Ответ:

А	Б	В

- 2 Запишите термин, о котором идёт речь.

Предприятие, основанное на ручном труде работников, на котором существует разделение труда на отдельные производственные операции.

Ответ: \_\_\_\_\_.

**Прочтите отрывок из исторического источника и выполните задание 3.**

«Которые государевы дворцовых сёл и чёрных волостей крестьяне и бобыли, выбежав из государевых дворцовых сёл и из чёрных волостей... а в писцовых книгах... те беглые крестьяне или отцы их написаны за государем, и тех государевых беглых крестьян и бобылей, сыскивая, свозити в государевы дворцовые сёла и в чёрные волости, на старые их жеребы, по писцовым книгам с жёнами и с детьми и со всеми их крестьянскими животы без урочных лет».

- 3 Укажите название данного исторического источника.

Ответ: \_\_\_\_\_

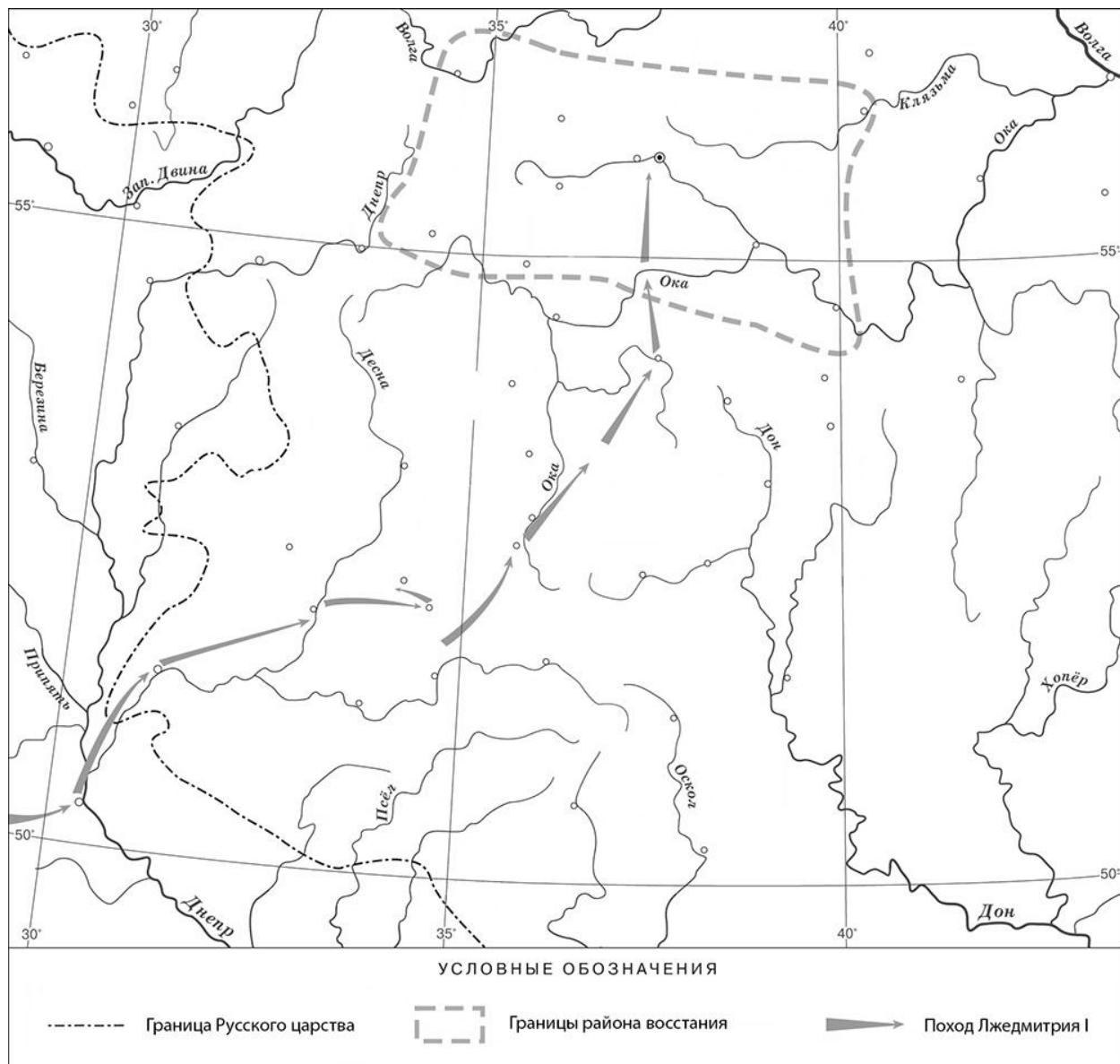
\_\_\_\_\_

Укажите название народного восстания, с которым связано появление данного исторического источника.

Ответ: \_\_\_\_\_

\_\_\_\_\_

Рассмотрите карту и выполните задания 4, 5.



4 Назовите российского монарха в период, когда произошло восстание, границы района которого обозначены на карте.

Ответ: \_\_\_\_\_.

5 Подпишите на карте город Москву и Речь Посполитую.




**Ознакомьтесь с приведённым перечнем и изображениями памятников культуры и выполните задания 6, 7.**

- 1) «Государев родословец»
- 2) «Калязинская челобитная»

3)



4)



6

Какие из приведённых памятников культуры были созданы в XVI в.? Выберите **два** памятника культуры и запишите в таблицу цифры, под которыми они указаны.

--	--

Ответ:

--	--

7

Создателем какого из приведённых памятников культуры был Симон Ушаков? Укажите порядковый номер этого памятника культуры.

--

Ответ:

--



На позиции 8 в 2021/2022 учебном году может быть использована только одна из двух моделей задания.

### Модель 1

8

Какой из приведённых исторических фактов можно использовать для аргументации следующей точки зрения: «Внешняя политика России в последние 10 лет царствования Ивана IV была неудачной»? Укажите порядковый номер этого факта в списке.

- 1) битва при Молодях
- 2) заключение Плюсского договора со Швецией
- 3) начало проведения политики опричнины

Ответ:

Объясните, как с помощью выбранного Вами факта можно аргументировать данную точку зрения.

Ответ:

---

---

---

---

---

---

8

### Модель 2

Укажите с точностью до десятилетия время, когда в России началась церковная реформа патриарха Никона. Укажите монарха, правившего в России в этот период. Приведите один любой факт, характеризующий ход этой реформы.

Время:

---

Монарх:

---

Факт:

---

---

---

---

**Часть 2**

9 Рассмотрите изображение и выполните задание.



В какой по счёту год с начала Великой Отечественной войны произошли события, которым посвящён данный памятник? Почему необходимо сохранять память о Великой Отечественной войне?



Ответ: \_\_\_\_\_

\_\_\_\_\_

\_\_\_\_\_

\_\_\_\_\_

\_\_\_\_\_

\_\_\_\_\_

\_\_\_\_\_

\_\_\_\_\_

\_\_\_\_\_

\_\_\_\_\_

\_\_\_\_\_

**Система оценивания диагностической работы по истории**

Каждое из заданий 1, 2, 4, 6 и 7 считается выполненным верно, если правильно указаны цифра, последовательность цифр или слово (словосочетание).

Полный правильный ответ на каждое из заданий 2, 4, 7 оценивается 1 баллом; неполный, неверный ответ или его отсутствие – 0 баллов.

За верный ответ на задания 1 и 6 выставляется 2 балла. Если в ответе допущена одна ошибка (в том числе написана лишняя цифра или не написана одна необходимая цифра), выставляется 1 балл; если допущено две или более ошибки – 0 баллов.

<b>Номер задания</b>	<b>Правильный ответ</b>
1	154
2	мануфактура
4	Борис Годунов
6	13
7	4

**Критерии оценивания выполнения заданий с развёрнутым ответом**

«Которые государевы дворцовых сёл и чёрных волостей крестьяне и бобыли, выбежав из государевых дворцовых сёл и из чёрных волостей... а в писцовых книгах... те беглые крестьяне или отцы их написаны за государем, и тех государевых беглых крестьян и бобылей, сыскивая, свозити в государевы дворцовые сёла и в чёрные волости, на старые их жеребьи, по писцовым книгам с жёнами и с детьми и со всеми их крестьянскими животы без урочных лет».

3

Укажите название данного исторического источника.

Укажите название народного восстания, с которым связано появление данного исторического источника.

<b>Содержание верного ответа и указания по оцениванию</b> (допускаются иные формулировки ответа, не искажающие его смысла)	<b>Баллы</b>
Правильный ответ должен содержать следующие элементы: 1) <u>название исторического источника</u> – Соборное уложение 1649 г. (Соборное уложение); 2) <u>название восстания</u> : Соляной бунт	
Правильно указаны названия исторического источника и восстания	2
Правильно указано только название исторического источника. ИЛИ Правильно указано только название восстания	1
Ответ неправильный	0
<i>Максимальный балл</i>	2

5

Подпишите на карте город Москву и Речь Посполитую.

Содержание верного ответа и указания по оцениванию	Баллы
<p>УСЛОВНЫЕ ОБОЗНАЧЕНИЯ</p> <p>----- Граница Русского царства      ..... Границы района восстания      ➔ Поход Лжедмитрия I</p>	
<p>В обозначении объектов на контурной карте допустимы небольшие отклонения, связанные с недостаточной аккуратностью участников ВПР</p>	
<p>Правильно подписаны Москва и Речь Посполитая</p>	<p>2</p>
<p>Правильно подписана только Москва.</p>	<p>1</p>
<p>ИЛИ Правильно подписана только Речь Посполитая</p>	
<p>Оба объекта подписаны неправильно.</p>	<p>0</p>
<p>ИЛИ Задание не выполнено</p>	
<p style="text-align: right;"><i>Максимальный балл</i></p>	<p>2</p>

## Для модели 1

8

Какой из приведённых исторических фактов можно использовать для аргументации следующей точки зрения: «Внешняя политика России в последние 10 лет царствования Ивана IV была неудачной»? Укажите порядковый номер этого факта в списке.

- 1) битва при Молодях
- 2) заключение Плюсского договора со Швецией
- 3) начало проведения политики опричнины

Объясните, как с помощью выбранного Вами факта можно аргументировать данную точку зрения.

Содержание верного ответа и указания по оцениванию (допускаются иные формулировки ответа, не искажающие его смысла)	Баллы
<p>Правильный ответ должен содержать следующие <u>элементы</u>:</p> <p>1) <u>порядковый номер факта</u> – 2; (При оценивании в качестве правильного принимается также указание факта, а не его номера.)</p> <p>2) <u>объяснение</u>, например: по Плюсскому перемирию, заключённому в конце царствования Ивана IV со Швецией, Россия утратила Ивангород, Ям, Копорье и Корелу с их уездами (значительную часть российского побережья Балтийского моря), что свидетельствует о неудаче внешней политики в конце царствования Ивана IV.</p> <p>Может быть приведено иное, близкое по смыслу объяснение</p>	
Правильно указан порядковый номер факта и приведено объяснение	3
Правильно указан порядковый номер факта. Объяснение содержит неточность(-и), существенно не искажающую(-ие) содержание ответа. ИЛИ Правильно указан порядковый номер факта. Дано неполное объяснение, в котором пропущено(-ы) положение(-я), которое(-ые) важно(-ы) для объяснения	2
Правильно указан порядковый номер факта. Объяснение сформулировано на уровне быденных представлений, без привлечения исторических фактов. ИЛИ Правильно указан только порядковый номер факта. Вместо объяснения приведены рассуждения общего характера, не соответствующие требованию задания. ИЛИ Правильно указан только порядковый номер факта	1
Порядковый номер факта указан неправильно / не указан независимо от наличия объяснения. ИЛИ Задание не выполнено	0
<i>Максимальный балл</i>	3

8

## Для модели 2

Укажите с точностью до десятилетия время, когда в России началась церковная реформа патриарха Никона. Укажите монарха, правившего в России в этот период. Приведите один любой факт, характеризующий ход этой реформы.

<b>Содержание верного ответа и указания по оцениванию</b> (допускаются иные формулировки ответа, не искажающие его смысла)	<b>Баллы</b>
Правильный ответ должен содержать следующие <u>элементы</u> : 1) <u>время</u> : 1650-е гг.; 2) <u>монарх</u> : Алексей Михайлович; 3) <u>факт</u> , например: в ходе реформы богослужебные книги исправлялись по греческим образцам. Может быть приведён другой факт	
Правильно указаны время и монарх; верно приведён исторический факт	3
Правильно указаны время и монарх. ИЛИ Правильно указано время, верно приведён исторический факт. ИЛИ Правильно указан монарх, верно приведён исторический факт	2
Правильно указано только время. ИЛИ Правильно указан только монарх. ИЛИ Верно приведён только исторический факт	1
Приведены рассуждения общего характера, не соответствующие требованию задания. ИЛИ Ответ неправильный	0
<i>Максимальный балл</i>	3

9

Рассмотрите изображение и выполните задание.



В какой по счёту год с начала Великой Отечественной войны произошли события, которым посвящён данный памятник? Почему необходимо сохранять память о Великой Отечественной войне?

Содержание верного ответа и указания по оцениванию (допускаются иные формулировки ответа, не искажающие его смысла)	Баллы
<p>Правильный ответ должен содержать следующие <u>элементы</u>:</p> <p>1) <u>ответ на первый вопрос</u> – в первый год;</p> <p>2) <u>ответ на второй вопрос</u>, например: нельзя забывать страдания, которые принесла война людям, чтобы подобные события больше не повторились. Нельзя забывать людей, отдавших в этой войне свои жизни ради того, чтобы мы сейчас жили.</p> <p>Ответ на второй вопрос может быть дан в иных, близких по смыслу формулировках</p>	
Правильно даны ответы на оба вопроса	3
<p>Правильно дан ответ на первый вопрос, ответ на второй вопрос содержит неточность(-и), существенно не искажающую(-ие) смысла ответа.</p> <p>ИЛИ Правильно дан ответ на первый вопрос, ответ на второй вопрос содержит не основные, а только второстепенные (несущественные) связи, не в полной мере раскрывающие суть ответа на задание</p>	2



Правильно дан ответ только на один вопрос; ответ на второй вопрос дан неправильно / не дан	1
Ответы на оба вопроса даны неправильно / не даны. ИЛИ Приведены рассуждения общего характера, не соответствующие требованию задания	0
<i>Максимальный балл</i>	3

### Система оценивания выполнения всей работы

Максимальный первичный балл за выполнение работы – 17.

*Рекомендации по переводу первичных баллов в отметки по пятибалльной шкале*

Отметка по пятибалльной шкале	«2»	«3»	«4»	«5»
<b>Первичные баллы</b>	0–4	5–9	10–13	14–17

**Проверочная работа  
по МАТЕМАТИКЕ****7 класс****Образец****Инструкция по выполнению работы**

На выполнение работы по математике даётся 90 минут. Работа содержит 16 заданий.

В заданиях, после которых есть поле со словом «Ответ», запишите ответ в указанном месте.

В задании 12 нужно отметить и обозначить точки на числовой прямой. В задании 15 нужно построить схематично график.

В заданиях, после которых есть поле со словами «Решение» и «Ответ», запишите решение и ответ в указанном месте.

Если Вы хотите изменить ответ, зачеркните его и запишите рядом другой.

При выполнении работы нельзя пользоваться учебниками, рабочими тетрадями, справочниками, калькулятором.

При необходимости можно пользоваться черновиком. Записи в черновике проверяться и оцениваться не будут.

Советуем выполнять задания в том порядке, в котором они даны. Для экономии времени пропускайте задание, которое не удаётся выполнить сразу, и переходите к следующему. Постарайтесь выполнить как можно больше заданий.

***Желаем успеха!****Таблица для внесения баллов участника*

Номер задания	1	2	3	4	5	6	7	8	9	10	11	12	13	14	15	16	Сумма баллов	Отметка за работу
Баллы																		

1 Найдите значение выражения  $\frac{5}{6} + \frac{7}{12} : \frac{7}{2}$ .

Ответ:	
--------	--

2 Найдите значение выражения  $\frac{2,6 - 8,4}{2,5}$ .

Ответ:	
--------	--

3 В таблице показано соответствие размеров женской обуви в России, Европейском союзе, Великобритании и США.

Россия	35	36	37	38	39	40	41
Европейский союз	36	37	38	39	40	41	42
Великобритания	3,5	4	5	6	6,5	7	8
США	5	5,5	6,5	7,5	8	8,5	9,5

Покупательница носит туфли 37-го размера по российской системе. Какого размера туфли ей нужно спросить, если она зашла в обувной магазин во Франции?

Ответ:	
--------	--

4 Трактор едет по дороге, проезжая 10 метров за каждую секунду. Выразите скорость трактора в километрах в час.

Ответ:	
--------	--

5 Ежемесячная плата за телефон составляет 280 рублей в месяц. Сколько рублей составит ежемесячная плата за телефон, если она вырастет на 5%?

Ответ:	
--------	--









## Система оценивания проверочной работы

## Оценивание отдельных заданий

Номер задания	1	2	3	4	5	6	7	8	9	10	11	12	13	14	15	16	Итого
Баллы	1	1	1	1	1	1	1	1	1	1	1	2	1	2	1	2	19

## Ответы

Номер задания	Правильный ответ
1	1
2	-2,32
3	38
4	36
5	294
6	23
7	любое значение от 12 до 18 г
8	$y = 2x - 1$ или $f(x) = 2x - 1$
9	-3
11	17
13	2
15	<p>Температура, С°</p> <p>15:00 18:00 21:00 00:00 03:00 06:00 09:00 12:00 15:00 Время, ч</p> <p>25 августа 26 августа</p> <p>В качестве верного ответа следует принять любую непрерывную линию, проходящую через все указанные в тексте точки и верно отражающую характер изменения температуры.</p>



## Решения и указания к оцениванию ответов на задания 10, 12, 14 и 16

10

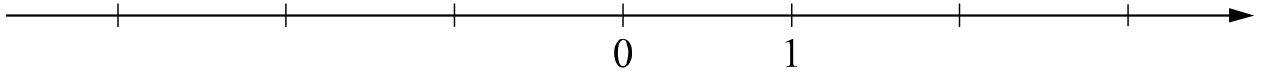
Прочтите текст.

*Байкал — самое глубокое озеро на планете. Наибольшая глубина Байкала – 1642 метра. Байкал находится в Сибири между Иркутской областью и Республикой Бурятия. Живописные берега озера тянутся на 2000 километров, а площадь водной поверхности составляет 31 722 кв. км. Прибрежные территории отличаются уникальным разнообразием флоры и фауны. Вода в Байкале удивительно прозрачна: видно дно на глубине 40 метров. Запасы пресной воды в Байкале огромны: объём озера – 23 615 куб. км. Байкал является частью огромной экологической системы, охватывающей сотни тысяч квадратных километров. Специалисты считают, что снижение уровня воды в Байкале даже на 10 см приведёт к необратимым катастрофическим последствиям для всей Восточной Сибири. Есть план построить на берегу озера завод, который будет выпускать байкальскую воду в бутылках. Экологи сильно обеспокоены сложившейся ситуацией.*

Предположим, что завод будет выпускать 20 миллионов пятилитровых бутылок в год. Будет ли заметно понижение уровня воды в Байкале, вызванное деятельностью завода в течение трёх лет? Ответ обоснуйте.

Решение и указания к оцениванию	Баллы
<p>Решение. За три года завод заберёт из Байкала: <math>20\,000\,000 \cdot 5 \cdot 3 = 300\,000\,000</math> л, или <math>300\,000\,000 : 1\,000 = 300\,000</math> куб. м воды.</p> <p>Чтобы узнать, на сколько понизится уровень воды в метрах, нужно разделить объём забранной воды на площадь озера, выраженную в кв. м:  <math>300\,000 : 31\,722\,000\,000 = 3 : 317\,220 &lt; 0,00001</math> (м).</p> <p>Уровень понизится менее чем на 0,01 мм. Такое снижение уровня воды практически невозможно зафиксировать.</p> <p><b>Допускается другая последовательность рассуждений, обоснованно приводящая к верному ответу.</b></p> <p>Ответ: нет.</p>	
Обоснованно получен верный ответ	1
Решение неверно или отсутствует	0
<i>Максимальный балл</i>	1

- 12 Отметьте и подпишите на координатной прямой точки  $A(1,6)$ ,  $B\left(-2\frac{7}{9}\right)$  и  $C(-2,75)$ .



Указания к оцениванию	Баллы
<p>Ответ:</p> <p>The coordinate line shows three points marked with dots. Point A is at 1. Points B and C are between 0 and 1, with B to the left of C. The labels 'BC' are placed above the dots for B and C, and 'A' is placed above the dot for A.</p>	
Все точки расположены в своих промежутках с целыми концами, учтено положение каждой точки относительно середины отрезка, точка $B$ изображена левее точки $C$	2
Точки расположены в правильном порядке, каждая в своем целом промежутке, но положение точки относительно середины отрезка неверное хотя бы у одной точки	1
Хотя бы одна из точек не попала в нужный промежуток с целыми концами, либо нарушен порядок точек $B$ и $C$	0
<i>Максимальный балл</i>	2

- 14 В треугольнике  $ABC$  проведена биссектриса  $CE$ . Найдите величину угла  $BCE$ , если  $\angle BAC = 46^\circ$  и  $\angle ABC = 78^\circ$ .

Указания к оцениванию	Баллы
<p>Решение.</p> <p>Сначала найдём угол <math>ACB</math> :</p> $\angle ACB = 180^\circ - 46^\circ - 78^\circ = 56^\circ .$ <p>Поскольку <math>CE</math> биссектриса, <math>\angle BCE = 56^\circ : 2 = 28^\circ</math>.</p> <p>The diagram shows a triangle with vertices A, B, and C. Angle A is labeled 46 degrees and angle B is labeled 78 degrees. A line segment CE is drawn from vertex C to point E on side AB, bisecting angle C.</p> <p><b>Допускается другая последовательность действий и рассуждений, обоснованно приводящая к верному ответу.</b></p> <p>Ответ: <math>28^\circ</math>.</p>	
Ход решения задачи верный, получен верный ответ	2
Ход решения правильный, все его шаги присутствуют, но допущена ошибка или описка вычислительного характера	1
Другие случаи, не соответствующие указанным критериям	0
<i>Максимальный балл</i>	2

16

Первый участок пути протяженностью 120 км автомобиль проехал со скоростью 80 км/ч, следующие 75 км — со скоростью 50 км/ч, а последние 110 км — со скоростью 55 км/ч. Найдите среднюю скорость автомобиля на протяжении всего пути. Запишите решение и ответ.

Указания к оцениванию	Баллы
<p>Решение.            Всего автомобиль проехал: <math>120 + 75 + 110 = 305</math> (км), затратив на весь путь</p> $\frac{120}{80} + \frac{75}{50} + \frac{110}{55} = 5 \text{ (ч).}$ <p>Таким образом, средняя скорость: <math>\frac{305}{5} = 61</math> (км/ч).</p> <p><b>Допускается другая последовательность действий и рассуждений, обоснованно приводящая к верному ответу.</b></p> <p>Ответ: 61 км/ч.</p>	
Ход решения задачи верный, получен верный ответ	2
Ход решения верный, все его шаги присутствуют, но допущена ошибка или описка вычислительного характера	1
Другие случаи, не соответствующие указанным критериям	0
<i>Максимальный балл</i>	2

### Система оценивания выполнения всей работы

Максимальный первичный балл за выполнение работы – 19.

*Рекомендуемая таблица перевода баллов в отметки по пятибалльной шкале*

Отметка по пятибалльной шкале	«2»	«3»	«4»	«5»
Первичные баллы	0–6	7–11	12–15	16–19

**Проверочная работа  
по ОБЩЕСТВОЗНАНИЮ**

**7 класс**

**Образец**

**Инструкция по выполнению работы**

На выполнение работы по обществознанию даётся 45 минут. Работа включает в себя 9 заданий.

Ответы на задания запишите в поля ответов в тексте работы. В случае записи неверного ответа зачеркните его и запишите рядом новый.

При необходимости можно пользоваться черновиком. Записи в черновике проверяться и оцениваться не будут.

Советуем выполнять задания в том порядке, в котором они даны. В целях экономии времени пропускайте задание, которое не удаётся выполнить сразу, и переходите к следующему. Если после выполнения всей работы у Вас останется время, то Вы сможете вернуться к пропущенным заданиям.

***Желаем успеха!***

*Таблица для внесения баллов участника*

Номер задания	1(1)	1(2)	2	3(1)	3(2)	4	5(1)	5(2)	6	7(1)	7(2)	8	9(1)	9(2)	9(3)	Сумма баллов	Отметка за работу
Баллы																	



2

Выберите верные суждения и запишите **цифры**, под которыми они указаны.

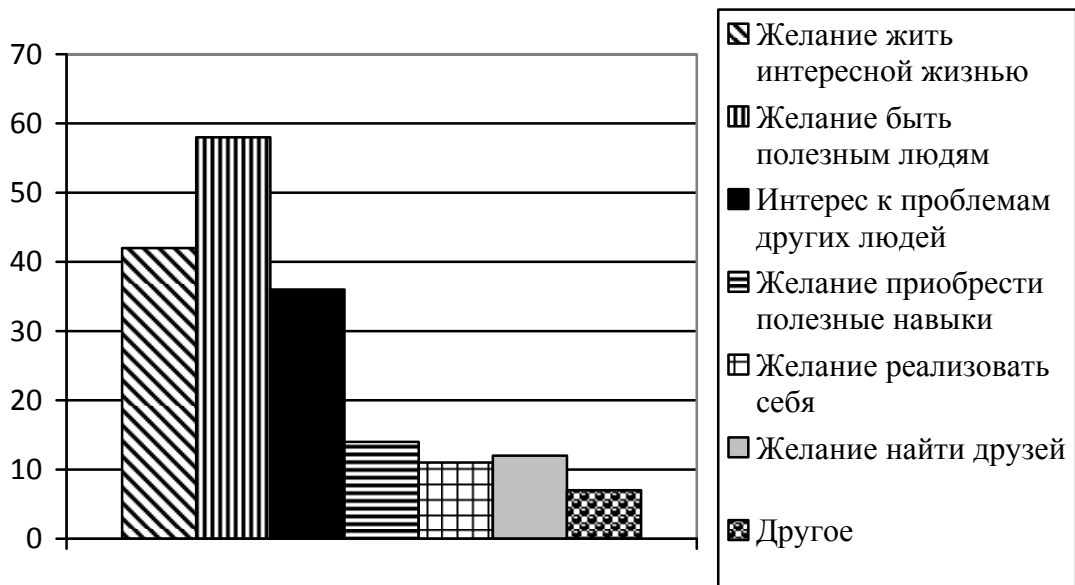
- 1) Духовные ценности определяют отношение человека к самому себе, другому человеку, окружающему миру.
- 2) Все социальные нормы содержатся в документах, издаваемых разными государственными органами, – в законах, указах, постановлениях.
- 3) Асоциальное поведение всегда связано с нарушением правовых норм.
- 4) Нравственность – практическое воплощение норм морали, поведение человека в соответствии с нормами морали.
- 5) Патриотизм – проявление любви и преданности Отечеству, готовность подчинить свои частные интересы интересам страны.

Ответ: \_\_\_\_\_

3

В 2017 г. ВЦИОМ провёл опрос совершеннолетних россиян о мотивах их участия в волонтерской деятельности. (При ответе можно было выбрать несколько вариантов.)

Результаты опроса (в % от числа отвечавших) представлены в графическом виде.



1. Как ответила наибольшая доля опрошенных? Предположите почему.

Ответ: \_\_\_\_\_  
 \_\_\_\_\_  
 \_\_\_\_\_  
 \_\_\_\_\_

2. Одни люди считают волонтерство способом решения своих проблем; другие, наоборот, готовы помогать нуждающимся людям. Какое мнение среди опрошенных преобладает? В каких сферах волонтеры оказывают помощь людям?

Ответ: \_\_\_\_\_  
\_\_\_\_\_  
\_\_\_\_\_  
\_\_\_\_\_

4

Установите соответствие между задачами и органами, призванными защищать права граждан: к каждому элементу первого столбца подберите соответствующий элемент из второго столбца.

## ЗАДАЧИ

- А) удостоверение верности копий документов
- Б) представление государственного обвинения в судебном разбирательстве
- В) обеспечение общественной безопасности
- Г) свидетельство подлинности подписи на документах
- Д) надзор над соблюдением законов

ОРГАНЫ, ПРИЗВАННЫЕ  
ЗАЩИЩАТЬ ПРАВА ГРАЖДАН

- 1) нотариат
- 2) прокуратура
- 3) полиция

Запишите в таблицу выбранные цифры под соответствующими буквами.

Ответ:

А	Б	В	Г	Д

5

Русскому поэту и государственному деятелю XVIII–XIX вв. Г.Р. Державину принадлежит следующее высказывание: «Хорошие законы могут исправить заблуждения в душе, счастливо рождённой и невоспитанной; но они не могут добродетелью оплодотворить худое сердце».

1. Как Вы понимаете смысл словосочетания «худое сердце»?

Ответ: \_\_\_\_\_

---

---

---

---

---

---

---

2. Дайте своё объяснение смысла высказывания.

Ответ: \_\_\_\_\_

---

---

---

---

---

---

---

6

Мария и Кирилл решили вступить в брак. Какие условия обязательны для заключения брака в Российской Федерации? Запишите цифры, под которыми указаны соответствующие условия.

- 1) наличие у жениха и невесты постоянного источника доходов
- 2) достижение женихом и невестой брачного возраста
- 3) владение русским языком
- 4) проживание жениха или невесты отдельно от родителей
- 5) наличие у жениха и невесты профессионального образования
- 6) добровольное согласие жениха и невесты

Ответ: \_\_\_\_\_



7 Одна из конституционных обязанностей гражданина России – уплата налогов (см. фотографию).



1. Как Вы думаете: а) что такое налоги; б) с какой целью взимаются налоги в государстве?

□ Ответ. \_\_\_\_\_  
\_\_\_\_\_  
\_\_\_\_\_  
\_\_\_\_\_  
\_\_\_\_\_  
\_\_\_\_\_

2. Какие ещё конституционные обязанности гражданина России Вы знаете? (Назовите две такие обязанности.)

□ Ответ. \_\_\_\_\_  
\_\_\_\_\_  
\_\_\_\_\_  
\_\_\_\_\_  
\_\_\_\_\_

8 Павел Анатольевич приобрёл в магазине телевизор. К какой сфере общественной жизни относят покупку товаров?

Ответ. \_\_\_\_\_

9 Привлекая обществоведческие знания, составьте краткое (не более 5 предложений) сообщение об уголовной ответственности в Российской Федерации, используя все приведённые ниже понятия.

*Преступление; Уголовный кодекс РФ; виды наказаний; возраст наступления уголовной ответственности.*

Ответ. \_\_\_\_\_

\_\_\_\_\_

\_\_\_\_\_

\_\_\_\_\_

\_\_\_\_\_

\_\_\_\_\_

\_\_\_\_\_

\_\_\_\_\_

\_\_\_\_\_

**Система оценивания проверочной работы по обществознанию**

Правильный ответ на каждое из заданий 2, 4, 6 и 8 оценивается 1 баллом. Задание считается выполненным верно, если ответ записан в той форме, которая указана в инструкции по выполнению задания.

Номер задания	Правильный ответ
2	145 (в любой последовательности)
4	12312
6	26 (в любой последовательности)
8	к экономике ИЛИ к экономической сфере

1

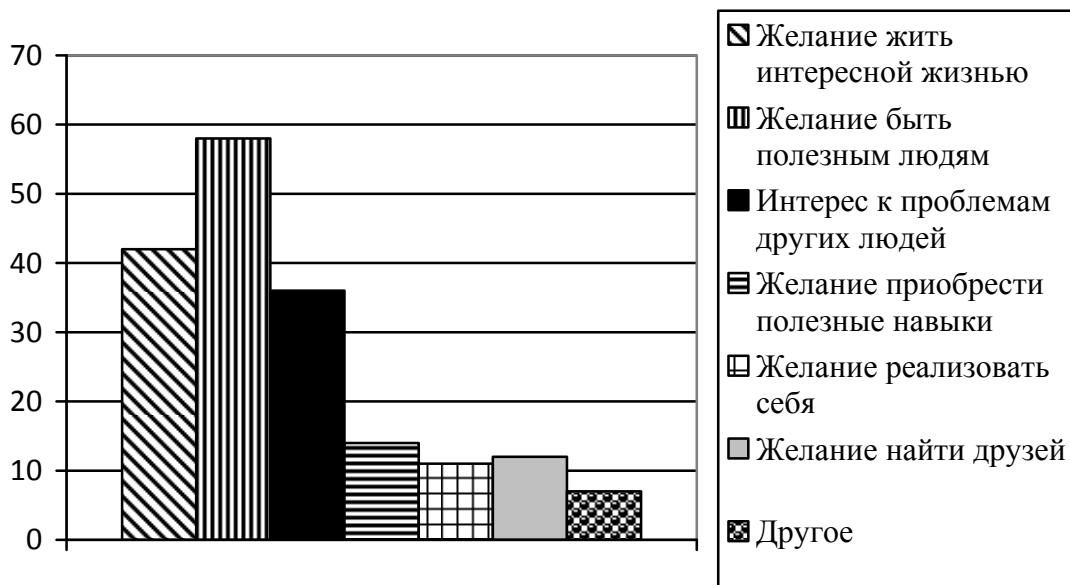
В ст. 37 Конституции Российской Федерации записано: «Труд свободен. Каждый имеет право свободно распоряжаться своими способностями к труду, выбирать род деятельности и профессию».

- Объясните, как Вы понимаете смысл фразы: «Труд свободен».
- Взрослые могут многое рассказать о своей трудовой деятельности, но в школьные годы главная деятельность – это учёба. Проанализируйте своё свободное от учёбы время и место труда в нём. Составьте рассказ о видах своего труда, используя следующий план.
  - Чем Вы занимаетесь, когда трудитесь дома? Для чего Вы трудитесь дома?
  - В каких видах общественно полезного труда Вы могли бы участвовать или участвовали? В чём Вы видите пользу такого участия для себя и своих сверстников?

Содержание верного ответа и указания по оцениванию (допускаются иные формулировки ответа, не искажающие его смысла)	Баллы
Правильный ответ должен содержать следующие элементы: 1) <u>ответ на первый вопрос</u> , например: каждый сам решает, как и где ему работать, какую профессию получить; никто не может заставить человека трудиться вопреки его желаниям; (Может быть дан иной уместный ответ на вопрос.) 2) <u>рассказ о видах своего труда</u> должен включать в себя: – указание одного или нескольких видов деятельности, которые отражают содержание труда подростка дома; – объяснение того, каковы цель и/или значение своего домашнего труда (перечисленных обучающимся видов деятельности); – указание одного или нескольких видов общественно полезной деятельности, в которых участвуют или могут принять участие подростки; – объяснение значения участия в общественно полезных видах деятельности для самого себя и своих сверстников	
<b>1. Ответ на первый вопрос</b>	<b>1</b>
Дан содержательный ответ на первый вопрос	1
Содержательный ответ на первый вопрос отсутствует	0
<b>2. Рассказ о своей трудовой деятельности</b>	<b>3</b>
Рассказ включает в себя ответы на каждый из четырёх вопросов в п. 1 и 2	3
Рассказ включает в себя ответы на любые три вопроса в п. 1 и 2	2
Рассказ включает в себя ответы на любые два вопроса в п. 1 и/или 2	1
Рассказ включает в себя только ответ на любой один вопрос в п. 1 и/или 2. ИЛИ Ответ неправильный	0
<i>Максимальный балл</i>	<b>4</b>

3

В 2017 г. ВЦИОМ провёл опрос совершеннолетних россиян о мотивах их участия в волонтерской деятельности. (При ответе можно было выбрать несколько вариантов.) Результаты опроса (в % от числа отвечавших) представлены в графическом виде.



1. Как ответила наибольшая доля опрошенных? Предположите почему.
2. Одни люди считают волонтерство способом решения своих проблем; другие, наоборот, готовы помогать нуждающимся людям. Какое мнение среди опрошенных преобладает? В каких сферах волонтеры оказывают помощь людям?

Содержание верного ответа и указания по оцениванию (допускаются иные формулировки ответа, не искажающие его смысла)	Баллы
<p>Правильный ответ должен содержать следующие <u>элементы</u>:</p> <p>1) <u>ответ на первый вопрос и предположение</u>:</p> <p>– <u>ответ на первый вопрос</u>: наибольшая доля опрошенных ответила, что мотивом их участия в волонтерской деятельности является желание быть полезным людям;</p> <p>(Ответ на вопрос может быть дан в иной, близкой по смыслу формулировке.)</p> <p>– <u>предположение</u>, например: в современном мире существует категория высоконравственных людей, которые готовы помогать другим совершенно добровольно. Вполне очевидно, что большинство опрошенных занимаются волонтерством, чтобы быть полезным людям;</p> <p>(Может быть высказано иное уместное предположение.)</p> <p>2) <u>ответ на второй вопрос с объяснением</u>, например:</p> <p>– больше тех, кто готов помогать нуждающимся людям;</p> <p>– работа в детских домах, больницах, на сезонных или периодических мероприятиях и т.п.</p>	
<b>1. Ответ на первый вопрос и предположение</b>	<b>2</b>
Дан правильный ответ на первый вопрос, высказано уместное предположение	2
Дан только правильный ответ на первый вопрос	1
Ответ на первый вопрос отсутствует / неправильный независимо от наличия предположения. ИЛИ Приведены рассуждения общего характера, не соответствующие требованию задания	0

<b>2. Ответ на второй вопрос с названием сфер деятельности волонтеров</b>	<b>1</b>
Дан ответ на второй вопрос, указаны названия сфер деятельности	1
Дан только ответ на второй вопрос. ИЛИ Названы только сферы деятельности волонтеров. ИЛИ Ответ неправильный	0
<i>Максимальный балл</i>	<b>3</b>

5

Русскому поэту и государственному деятелю XVIII–XIX вв. Г.Р. Державину принадлежит следующее высказывание: «Хорошие законы могут исправить заблуждения в душе, счастливо рожденной и невоспитанной; но они не могут добродетелью оплодотворить худое сердце».

1. Как Вы понимаете смысл словосочетания «худое сердце»?
2. Дайте своё объяснение смысла высказывания.

<b>Содержание верного ответа и указания по оцениванию (допускаются иные формулировки ответа, не искажающие его смысла)</b>	<b>Баллы</b>
Правильный ответ может содержать следующие <b>элементы</b> : 1) <b>ответ на вопрос</b> , например: дурные помыслы человека, осознанное совершение им плохих поступков; 2) <b>объяснение</b> , например: усвоение правовых норм, следование им в жизни зависит от внутреннего мира человека, его нравственного облика. Элементы ответа могут быть сформулированы иначе	
<b>1. Ответ на вопрос</b>	<b>1</b>
Дан ответ на вопрос	1
Приведены рассуждения общего характера, не соответствующие требованию задания. ИЛИ Ответ неправильный	0
<b>2. Объяснение</b>	<b>1</b>
Приведено уместное объяснение	1
Приведены рассуждения общего характера, не соответствующие требованию задания. ИЛИ Ответ неправильный	0
<i>Максимальный балл</i>	<b>2</b>

7

Одна из конституционных обязанностей гражданина России – уплата налогов (см. фотографию).



1. Как Вы думаете: а) что такое налоги; б) с какой целью взимаются налоги в государстве?
2. Какие ещё конституционные обязанности гражданина России Вы знаете? (Назовите две такие обязанности.)

Содержание верного ответа и указания по оцениванию (допускаются иные формулировки ответа, не искажающие его смысла)	Баллы
Правильный ответ должен содержать следующие <u>элементы</u> : 1) <u>ответ на первый вопрос</u> , например: – налоги – это обязательные платежи гражданина или организации государству с их доходов или имущества; – налоги пополняют государственный бюджет ИЛИ они идут на образование, здравоохранение, содержание армии, развитие экономики, социальные программы и т.д.; (Ответ на первый вопрос может быть дан в других формулировках.) 2) <u>ответ на второй вопрос</u> , например: защита Отечества, сохранение природы. Могут быть названы другие конституционные обязанности гражданина РФ	
<b>1. Ответ на первый вопрос</b>	<b>2</b>
Указано, что такое налоги и на что они идут в государстве	2
Указано только то, что такое налоги / только то, на что идут налоги	1
Приведены рассуждения общего характера, не соответствующие требованию задания. ИЛИ Ответ неправильный	0
<b>2. Ответ на второй вопрос</b>	<b>1</b>
Названы две обязанности	1
Названа только одна обязанность. ИЛИ Приведены рассуждения общего характера, не соответствующие требованию задания. ИЛИ Ответ неправильный	0
<i>Максимальный балл</i>	<b>3</b>

9

Привлекая обществоведческие знания, составьте краткое (не более 5 предложений) сообщение об уголовной ответственности в Российской Федерации, используя все приведённые ниже понятия.

*Преступление; Уголовный кодекс РФ; виды наказаний; возраст наступления уголовной ответственности.*

Содержание верного ответа и указания по оцениванию (допускаются иные формулировки ответа, не искажающие его смысла)	Баллы
<p>Правильный ответ должен содержать <u>краткое (не более 5 предложений) сообщение об уголовной ответственности в РФ с использованием четырёх предложенных понятий</u>, например:</p> <p><b>Преступлением</b> называют общественно опасное деяние, запрещённое Уголовным кодексом под угрозой наказания. <b>Уголовный кодекс РФ</b> определяет, какие опасные для личности, общества или государства деяния признаются преступлениями, и устанавливает <b>виды наказаний</b>. Наказанием называют меру государственного принуждения, назначаемую по приговору суда.</p> <p><b>Возраст наступления уголовной ответственности</b> – 16 лет, но в случаях совершения убийства, похищения человека и др. уголовной ответственности подлежат лица, достигшие ко времени совершения преступления 14-летнего возраста.</p> <p>Может быть составлено другое краткое сообщение с использованием четырёх предложенных понятий.</p> <p><i>Указание количества предложений в задании является ориентировочным</i></p>	
<b>1. Содержание сообщения</b>	<b>1</b>
Сообщение содержит информацию об уголовной ответственности в РФ	1
Сообщение не содержит информации об уголовной ответственности в РФ	0
<b>2. Использование предложенных понятий</b>	<b>3</b>
В сообщении корректно использованы четыре понятия	3
В сообщении корректно использованы любые три понятия	2
В сообщении корректно использованы только любые два понятия	1
В сообщении корректно использовано только одно любое понятие. ИЛИ Ни одно из предложенных в задании слов не использовано / использовано некорректно	0
<b>3. Связность</b>	<b>1</b>
Составленные предложения представляют собой связанное сообщение	1
Составленные предложения не связаны друг с другом	0
<i>Максимальный балл</i>	<b>5</b>

### Система оценивания выполнения всей работы

Максимальный первичный балл за выполнение работы – 21.

*Рекомендации по переводу первичных баллов в отметки по пятибалльной шкале*

Отметка по пятибалльной шкале	«2»	«3»	«4»	«5»
Первичные баллы	0–8	9–13	14–18	19–21

**Проверочная работа  
по РУССКОМУ ЯЗЫКУ**

**7 класс**

**Образец**

**Пояснение к образцу проверочной работы**

На выполнение проверочной работы по русскому языку даётся 90 минут. Работа включает в себя 14 заданий.

Ответ запишите в поле ответа в тексте работы.

При выполнении работы не разрешается пользоваться учебником, рабочими тетрадями, справочниками по грамматике, орфографическими словарями, иными справочными материалами.

Советуем выполнять задания в том порядке, в котором они даны. Для экономии времени пропускайте задание, которое не удаётся выполнить сразу, и переходите к следующему. Если после выполнения всей работы у Вас останется время, Вы сможете вернуться к пропущенным заданиям. Постарайтесь выполнить как можно больше заданий.

**Желаем успеха!**

*Таблица для внесения баллов участника*

Номер задания	1К1	1К2	1К3	2К1	2К2	2К3	2К4	3(1)	3(2)	4(1)	4(2)	5	6	7(1)	7(2)	8(1)	8(2)	9
Баллы																		
Номер задания	10		11(1):11(2)		12	13(1)	13(2)	14	Сумма баллов	Отметка за работу								
Баллы																		









3

Выпишите, раскрывая скобки, вставляя пропущенные буквы, предложения, в которых выделенные слова являются предлогами.

- 1) **(В)течени..** получаса лил дождь.
- 2) Режиссёр заинтересован **(в)продолжени..** сериала.
- 3) Мы поехали **(на)встречу** с друзьями.
- 4) **(Не)смотря на** нездоровье, он работал.

Ответ. \_\_\_\_\_

\_\_\_\_\_

\_\_\_\_\_

4

Выпишите, раскрывая скобки, предложения, в которых выделенные слова являются союзами.

- 1) Мал, **за(то)** удал.
- 2) **Что(бы)** нам придумать?
- 3) Ты **то(же)** готовишься к конкурсу?
- 4) Всё осталось **так(же)**, как прежде.

Ответ. \_\_\_\_\_

\_\_\_\_\_

\_\_\_\_\_

5

Поставьте знак ударения в следующих словах.

**Взята, надолго, понявший, эксперт.**

6

Найдите и исправьте грамматическую(-ие) ошибку(-и) в предложении(-ях). Запишите исправленный(-ые) вариант(ы) предложения(-ий).

- 1) Возвращаясь с тренировки, у меня болели ноги.
- 2) По прибытию в лагерь мы разместились в новом корпусе.
- 3) Аккуратно подстриженные кусты украшали аллею.
- 4) Мы, затаив дыхание, слушали пение соловья.

Ответ. \_\_\_\_\_  
\_\_\_\_\_  
\_\_\_\_\_

7

Выпишите предложение, в котором нужно поставить одну запятую. (Знаки препинания внутри предложений не расставлены.) Напишите, на каком основании Вы сделали свой выбор.

- 1) Возвращаясь из Петровского мы сбились с дороги долго плутали в лесных оврагах.
- 2) В книжных шкафах размещённых вдоль стен есть прижизненные издания поэта.
- 3) В кабинет можно пройти через гостиную обставленную старинной мебелью.
- 4) Убегающая в глубь парка дорожка ещё помнит лёгкую поступь молодого поэта.

Ответ. \_\_\_\_\_  
\_\_\_\_\_  
\_\_\_\_\_

8

Выпишите предложение, в котором необходимо поставить две запятые. (Знаки препинания внутри предложений не расставлены.) Напишите, на каком основании Вы сделали свой выбор.

- 1) Родник весело зазвенел вырвавшись из тёмных глубин земли.
- 2) Запел хрустальную песенку родник обрадованный человеческой заботой.
- 3) Выпив родниковой воды усталые путники сели на мягкий ковёр травы.
- 4) Друзья вы делаете доброе дело помогая обустроить место вокруг родника.

Ответ. \_\_\_\_\_  
\_\_\_\_\_  
\_\_\_\_\_

## Прочитайте текст 2 и выполните задания 9–13.

## Текст 2

(1)Этим летом мне довелось ехать в поезде вместе с мальчиком лет двенадцати и его мамой. (2)Он сидел, уткнувшись в книгу, и увлечённо читал «Тараса Бульбу» Гоголя.

– (3)Мой сын прямо-таки глотаёт книги, – сказала женщина. – (4)В отличие от многих его сверстников, он очень начитанный.

(5)Я поинтересовалась, книги каких авторов он читал, и паренёк вытащил из рюкзака блокнот с длинным списком произведений русских и зарубежных классиков и современных писателей. (6)Я обрадовалась: значит, и среди современных подростков встречаются книгочеи!

– (7)Мы в классе соревнуемся, кто за лето больше книг прочтёт, – сообщил он. – (8)Я в прошлом году был первым.

(9)У меня на коленях лежал томик Льва Николаевича Толстого, раскрытый на страницах повести «Хаджи-Мурат», и я углубилась в чтение.

– (10)А вы за сколько минут страницу прочитываете? – вдруг услышала я голос паренька.

– (11)Не заметила... не считала!

– (12)А я заметил: пока вы пятнадцать страниц прочитали, я уже двадцать три успел!

– (13)Да зачем ты торопишься? (14)Не торопись, вдумывайся в то, что читаешь, иначе пропустишь что-нибудь важное.

– (15)Важное-то я не пропущу, – ответил он самоуверенно. – (16)Я только описания природы пропускаю, всякие там облака, цветочки-лепесточки.

(17)Поезд уже подходил к станции, а мне так хотелось поговорить с юным попутчиком. (18)«А ведь читать-то ты, дружок, не умеешь, – хотела я сказать ему. – (19)Из книги берёшь самую малость, только цепочку событий. (20)А книга готова дать тебе бесценный клад мыслей и чувств, научит тебя читать не только строки, но и между строк...»

(21)И пока мне думалось, что этих слов он вовсе не поймёт, пока я сердилась сама на себя, решая, как бы мне растревожить этого самоуверенного мальчишку, поезд стал замедлять ход.

(22)Мать мальчика, обращаясь ко мне, восхищённо сказала:

– Вы только взгляните! (23)Он уже проглотил книгу!

(24)И тут я, наверное, обидела её.

– (25)Вы заблуждаетесь, – ответила я. – (26)Он вовсе не умеет читать.

(По Э. Цюрупe)

9

Определите и запишите основную мысль текста.

Ответ. \_\_\_\_\_

\_\_\_\_\_

\_\_\_\_\_

\_\_\_\_\_

10

Определите, какой тип речи представлен в предложениях 18–20 текста. Запишите ответ.

Ответ. \_\_\_\_\_

11

Какое первое впечатление произвёл мальчик на автора текста? Запишите ответ. Выпишите из текста не менее трёх ключевых слов (словосочетаний), которые подтверждают Ваш ответ.

Ответ. \_\_\_\_\_

\_\_\_\_\_

12

Определите и запишите лексическое значение слова «заблуждаться» из предложения 25.

Ответ. \_\_\_\_\_

13

Найдите стилистически окрашенное слово в предложениях 4–5, выпишите это слово. Подберите и запишите синоним к этому слову.

Ответ. \_\_\_\_\_

\_\_\_\_\_

14

Объясните значение пословицы *Не на пользу читать, коли вершки хватать*, запишите Ваше объяснение.

Ответ. \_\_\_\_\_

\_\_\_\_\_

\_\_\_\_\_

\_\_\_\_\_

## Система оценивания проверочной работы по русскому языку

1

Перепишите текст 1, раскрывая скобки, вставляя, где это необходимо, пропущенные буквы и знаки препинания.

## Текст 1

Есть на наших пр..сторах бл..годатный пояс земли называ..мый средней п..лосой. Она хороша умере(н,нн)ост..ю всего т..пла влаги со..нца. Чайковский Левитан Паустовский Пришвин были с..речно пр..вяза(н,нн)ы к (не)броской но п..этичной пр..род.. Средней Росси.. . Средн..я п..лоса это густые леса ра(з/с)пол..га..щиеся в северн..й её части и лес..степь к югу. Это пашни между лесами. Это луга д..лины б..льших и маленьких реч..к синие блю(д/т)ца озёр. М..стами р..внина сле(г/х)ка<sup>(2)</sup> холмит..ся.

Есть в этом обжитом кра.. заповедн..ки связа(н,нн)ые<sup>(3)</sup> с духовной жизн..ю людей. Они хр..нят память о пр..бывани.. здесь в..ликих сынов Росси.. .<sup>(4)</sup> Не счесть талантов взр..щё(н,нн)ых в этих краях! Бывая на родин.. писателей художников к..мп..зиторов вид..ш..: всё самое в..λικое п..талось обыкнове(н,нн)ыми жизне(н,нн)ыми соками родной земли.

№	Содержание верного ответа и указания по оцениванию	Баллы
	<p>Текст 1</p> <p>Есть на наших просторах благодатный пояс земли, называемый средней полосой. Она хороша умеренностью всего: тепла, влаги, солнца. Чайковский, Левитан, Паустовский, Пришвин были сердечно привязаны к неброской, но поэтичной природе Средней России. Средняя полоса – это густые леса, располагающиеся в северной её части, и лесостепь к югу. Это пашни между лесами. Это луга, долины больших и маленьких речек, синие блюда озёр. Местами равнина слегка<sup>(2)</sup> холмится.</p> <p>Есть в этом обжитом крае заповедники, связанные<sup>(3)</sup> с духовной жизнью людей. Они хранят память о пребывании здесь великих сынов России.<sup>(4)</sup> Не счесть талантов, взращённых в этих краях! Бывая на родине писателей, художников, композиторов, видишь: всё самое великое питалось обыкновенными жизненными соками родной земли.</p> <p><i>(По В. Пескову)</i></p>	
<b>К1</b>	<b>Соблюдение орфографических норм</b>	
	Орфографических ошибок нет (или допущена одна негрубая ошибка). <b>При оценивании выполнения задания по критерию К1 учитываются только ошибки, сделанные при вставке пропущенных букв, раскрытии скобок, восстановлении слитного, отдельного и дефисного написания слов</b>	4
	Допущено не более двух ошибок	3
	Допущено три-четыре ошибки	2
	Допущено пять ошибок	1
	Допущено более пяти ошибок	0
<b>К2</b>	<b>Соблюдение пунктуационных норм</b>	
	Пунктуационных ошибок нет	3
	Допущена одна ошибка	2
	Допущено две ошибки	1
	Допущено более двух ошибок	0



КЗ	Правильность списывания текста	
	Текст переписан безошибочно (нет пропущенных и лишних слов, нет слов с изменённым графическим обликом). ИЛИ Допущено не более трёх описок и ошибок следующего характера: 1) изменён графический облик слова (допущены перестановка, замена или пропуск буквы, не приводящие к орфографической или грамматической ошибке); 2) в переписанном тексте пропущено одно из слов текста либо есть одно лишнее слово	2
	Допущено четыре–семь описок и ошибок следующего характера: 1) изменён графический облик слова (допущены перестановка, замена или пропуск буквы, не приводящие к орфографической или грамматической ошибке); 2) в переписанном тексте пропущено одно из слов текста либо есть одно лишнее слово	1
	Допущено более семи описок и ошибок следующего характера: 1) изменён графический облик слова (допущены перестановка, замена или пропуск буквы, не приводящие к орфографической или грамматической ошибке); 2) в переписанном тексте пропущено одно из слов текста либо есть одно лишнее слово	0
<i>Максимальный балл</i>		<i>9</i>

2

Выполните обозначенные цифрами в тексте 1 языковые разборы:

- (2) – морфемный и словообразовательный разборы слова;  
(3) – морфологический разбор слова;  
(4) – синтаксический разбор предложения.

Морфемный и словообразовательный разборы слова

**слегка**<sup>(2)</sup>

слегка

слегка ← лёгкий (приставочно-суффиксальный способ)

Морфологический разбор слова

**связанные**<sup>(3)</sup>

- Заповедники (какие?) связанные – причастие, н. ф. – связанный; от глаг. связать.
- Пост. – страдат., прош. вр., сов. в.; непост. – в полной форме, им. п., мн. ч.
- В предложении является определением.

## Синтаксический разбор предложения

**Они хранят память о пребывании здесь великих сынов России.<sup>(4)</sup>**

Предложение повествовательное, невосклицательное, простое, распространённое.

Грамматическая основа: *они* (подлежащее, выражено местоимением) *хранят* (сказуемое, выражено глаголом).

Второстепенные члены предложения: (*хранят*) *память* – дополнение, выражено именем существительным; (*память*) *о пребывании* – дополнение, выражено именем существительным с предлогом (возможно: определение); (*о пребывании*) *здесь* – обстоятельство, выражено наречием; (*о пребывании*) *сынов* – дополнение, выражено именем существительным; (*сынов*) *великих* – определение, выражено именем прилагательным; (*сынов*) *России* – дополнение, выражено именем существительным (возможно: определение).

№	Указания по оцениванию	Баллы
<b>К1</b>	<b>Выполнение морфемного разбора</b>	
	Разбор выполнен верно	3
	При разборе допущена одна ошибка	2
	При разборе допущено две ошибки	1
	При разборе допущено более двух ошибок	0
<b>К2</b>	<b>Выполнение словообразовательного разбора</b>	
	Разбор выполнен верно	3
	При разборе допущена одна ошибка	2
	При разборе допущено две ошибки	1
	При разборе допущено более двух ошибок	0
<b>К3</b>	<b>Выполнение морфологического разбора</b>	
	Разбор выполнен верно	3
	При разборе допущена одна ошибка	2
	При разборе допущено две ошибки	1
	При разборе допущено более двух ошибок	0
<b>К4</b>	<b>Выполнение синтаксического разбора предложения</b>	
	Разбор выполнен верно	3
	При разборе допущена одна ошибка	2
	При разборе допущено две ошибки	1
	При разборе допущено более двух ошибок	0
<i>Максимальный балл</i>		<i>12</i>

3

Выпишите, раскрывая скобки, вставляя пропущенные буквы, предложения, в которых выделенные слова являются предлогами.

- 1) **(В)течени..** получаса лил дождь.
- 2) Режиссёр заинтересован **(в)продолжени..** сериала.
- 3) Мы поехали **(на)встречу** с друзьями.
- 4) **(Не)смотря на** нездоровье, он работал.

Содержание верного ответа и указания по оцениванию	Баллы
Правильный ответ должен содержать следующие <u>элементы</u> : 1) распознавание предложений с предлогом: <i>В течение получаса лил дождь. Несмотря на нездоровье, он работал;</i> 2) правильное написание предлогов: <i>в течение, несмотря на</i>	
<b>Распознавание предложений</b>	
Правильно определены и выписаны два предложения	1
Правильно определено и выписано только одно из двух предложений. ИЛИ Наряду с правильными выписаны другие предложения. ИЛИ Оба предложения не выписаны	0
<b>Правильное написание предлогов</b>	
В написании предлогов орфографических ошибок нет	1
В написании предлогов допущена одна ошибка или более	0
<i>Максимальный балл</i>	2

4

Выпишите, раскрывая скобки, предложения, в которых выделенные слова являются союзами.

- 1) Мал, **за(то)** удал.
- 2) **Что(бы)** нам придумать?
- 3) Ты **то(же)** готовишься к конкурсу?
- 4) Всё осталось **так(же)**, как прежде.

Содержание верного ответа и указания по оцениванию	Баллы
Правильный ответ должен содержать следующие <u>элементы</u> : 1) распознавание предложений с союзом: <i>Мал, зато удал. Ты тоже готовишься к конкурсу?;</i> 2) правильное написание союзов: <i>зато, тоже</i>	
<b>Распознавание предложений</b>	
Правильно определены и выписаны два предложения	1
Правильно определено и выписано только одно из двух предложений. ИЛИ Наряду с правильными выписаны другие предложения. ИЛИ Оба предложения не выписаны	0
<b>Правильное написание союзов</b>	
В написании союзов орфографических ошибок нет	1
В написании союзов допущена одна ошибка или более	0
<i>Максимальный балл</i>	2

5 Поставьте знак ударения в следующих словах.

**Взята, надолго, понявший, эксперт.**

Содержание верного ответа и указания по оцениванию	Баллы
<i>Взята́, надолго́, понявший, экспéрт</i>	
Верно поставлено ударение во всех словах	2
Верно поставлено ударение только в трёх словах	1
Верно поставлено ударение только в одном-двух словах. ИЛИ Ударение во всех словах поставлено неверно / не поставлено	0
<i>Максимальный балл</i>	2

6 Найдите и исправьте грамматическую(-ие) ошибку(-и) в предложении(-ях). Запишите исправленный(-ые) вариант(ы) предложения(-ий).

- 1) Возвращаясь с тренировки, у меня болели ноги.
- 2) По прибытию в лагерь мы разместились в новом корпусе.
- 3) Аккуратно подстриженные кусты украшали аллею.
- 4) Мы, затаив дыхание, слушали пение соловья.

Содержание верного ответа и указания по оцениванию	Баллы
<i>Когда я возвращался с тренировки, у меня болели ноги. По прибытии в лагерь мы разместились в новом корпусе.</i> ИЛИ <i>Возвращаясь с тренировки, я испытывал боль в ногах. По прибытии в лагерь мы разместились в новом корпусе</i>	
Верно выписаны и исправлены два предложения	2
Верно выписаны два предложения, верно исправлено одно предложение. ИЛИ Верно выписано и исправлено одно предложение	1
Выписаны, но не исправлены ошибочные варианты предложений. ИЛИ Ответ неправильный	0
<i>Максимальный балл</i>	2

7

Выпишите предложение, в котором нужно поставить одну запятую. (Знаки препинания внутри предложений не расставлены.) Напишите, на каком основании Вы сделали свой выбор.

- 1) Возвращаясь из Петровского мы сбились с дороги долго плутали в лесных оврагах.
- 2) В книжных шкафах размещённых вдоль стен есть прижизненные издания поэта.
- 3) В кабинет можно пройти через гостиную обставленную старинной мебелью.
- 4) Убегающая в глубь парка дорожка ещё помнит лёгкую поступь молодого поэта.

Содержание верного ответа и указания по оцениванию	Баллы
<p>Правильный ответ должен содержать следующие элементы:</p> <p>1) распознавание предложения и места постановки запятой: <i>В кабинет можно пройти через гостиную, обставленную старинной мебелью;</i></p> <p>2) обоснование выбора предложения, например: причастный оборот находится после определяемого слова и завершает предложение.</p> <p style="text-align: center;">×</p> <p>ИЛИ [сущ., <u>д.о.</u>].</p> <p>Обоснование выбора предложения может быть сформулировано иначе</p>	
<b>Распознавание предложения и места постановки запятой</b>	
Правильно определено предложение и место постановки запятой	1
Правильно определено предложение, но место постановки запятой определено неверно. ИЛИ Ответ неправильный	0
<b>Обоснование выбора предложения</b>	
Верно обоснован выбор предложения	1
Обоснование отсутствует. ИЛИ Ответ неправильный	0
<i>Максимальный балл</i>	2

8

Выпишите предложение, в котором необходимо поставить две запятые. (Знаки препинания внутри предложений не расставлены.) Напишите, на каком основании Вы сделали свой выбор.

- 1) Родник весело зазвенел вырвавшись из тёмных глубин земли.
- 2) Запел хрустальную песенку родник обрадованный человеческой заботой.
- 3) Выпив родниковой воды усталые путники сели на мягкий ковёр травы.
- 4) Друзья вы делаете доброе дело помогая обустроить место вокруг родника.

Содержание верного ответа и указания по оцениванию	Баллы
Правильный ответ должен содержать следующие <u>элементы</u> : 1) распознавание предложения и мест расстановки запятых: <i>Друзья, вы делаете доброе дело, помогая обустроить место вокруг родника</i> ; 2) обоснование выбора предложения, называние пунктуационных отрезков, например: это предложение с обращением и деепричастным оборотом. ИЛИ Обращение стоит в начале предложения, деепричастный оборот завершает предложение. Обоснование выбора предложения может быть сформулировано иначе	
<b>Распознавание предложения и мест расстановки запятых</b>	
Правильно определено предложение и расставлены знаки препинания	2
Правильно определено предложение, при расстановке знаков препинания допущена одна ошибка	1
Правильно определено предложение, при расстановке знаков препинания допущено две ошибки или более. ИЛИ Ответ неправильный	0
<b>Обоснование выбора предложения, называние пунктуационных отрезков</b>	
Верно обоснован выбор предложения: названы два пунктуационных отрезка	1
Верно назван только один из пунктуационных отрезков. ИЛИ Ответ неправильный	0
<i>Максимальный балл</i>	3

**Прочитайте текст 2 и выполните задания 9–13.**

## Текст 2

(1)Этим летом мне довелось ехать в поезде вместе с мальчиком лет двенадцати и его мамой. (2)Он сидел, уткнувшись в книгу, и увлечённо читал «Тараса Бульбу» Гоголя.

– (3)Мой сын прямо-таки глотает книги, – сказала женщина. – (4)В отличие от многих его сверстников, он очень начитанный.

(5)Я поинтересовалась, книги каких авторов он читал, и паренёк вытащил из рюкзака блокнот с длинным списком произведений русских и зарубежных классиков и современных писателей. (6)Я обрадовалась: значит, и среди современных подростков встречаются книгочеи!

– (7)Мы в классе соревнуемся, кто за лето больше книг прочтёт, – сообщил он. – (8)Я в прошлом году был первым.

(9)У меня на коленях лежал томик Льва Николаевича Толстого, раскрытый на страницах повести «Хаджи-Мурат», и я углубилась в чтение.

– (10)А вы за сколько минут страницу прочитываете? – вдруг услышала я голос паренька.

– (11)Не заметила... не считала!

– (12)А я заметил: пока вы пятнадцать страниц прочитали, я уже двадцать три успел!

– (13)Да зачем ты торопишься? (14)Не торопись, вдумывайся в то, что читаешь, иначе пропустишь что-нибудь важное.

– (15)Важное-то я не пропущу, – ответил он самоуверенно. – (16)Я только описания природы пропускаю, всякие там облака, цветочки-лепесточки.

(17)Поезд уже подходил к станции, а мне так хотелось поговорить с юным попутчиком. (18)«А ведь читать-то ты, дружок, не умеешь, – хотела я сказать ему. – (19)Из книги берёшь самую малость, только цепочку событий. (20)А книга готова дать тебе бесценный клад мыслей и чувств, научит тебя читать не только строки, но и между строк...» (21)И пока мне думалось, что этих слов он вовсе не поймёт, пока я сердилась сама на себя, решая, как бы мне растревожить этого самоуверенного мальчишку, поезд стал замедлять ход.

(22)Мать мальчика, обращаясь ко мне, восхищённо сказала:

– Вы только взгляните! (23)Он уже проглотил книгу!

(24)И тут я, наверное, обидела её.

– (25)Вы заблуждаетесь, – ответила я. – (26)Он вовсе не умеет читать.

(По Э. Цюрупе)

9

Определите и запишите основную мысль текста.

Содержание верного ответа и указания по оцениванию (допускаются иные формулировки ответа, не искажающие его смысла)	Баллы
<p><u>Основная мысль текста.</u>  <i>Если читать книгу вдумчиво, ничего не пропуская, то она даст тебе бесценный клад мыслей и чувств, научит понимать даже то, что содержится между строк.</i>  ИЛИ <i>Умение читать заключается не в быстром «проглатывании» книги, а в понимании прочитанного и скрытого между строк.</i>  Основная мысль текста может быть приведена в иной, близкой по смыслу формулировке</p>	

Основная мысль определена верно, полно; предложение построено правильно, в нём употреблены слова в свойственном им значении	2
Основная мысль определена верно, но недостаточно полно; предложение построено правильно, в нём употреблены слова в свойственном им значении. ИЛИ Основная мысль определена верно, полно; в предложении допущено один-два речевых недочёта. ИЛИ Основная мысль определена верно, но недостаточно полно; в предложении допущен один речевой недочёт	1
Основная мысль определена верно, полно; в предложении допущено более двух речевых недочётов. ИЛИ Основная мысль определена верно, но недостаточно полно; в предложении допущено два и более речевых недочёта. ИЛИ Основная мысль не определена / определена неверно независимо от наличия/отсутствия речевых недочётов в построении предложения и словоупотреблении	0
<i>Максимальный балл</i>	2

10 Определите, какой тип речи представлен в предложениях 18–20 текста. Запишите ответ.

<b>Содержание верного ответа и указания по оцениванию</b>	<b>Баллы</b>
Ответ: <i>рассуждение</i>	
Дан верный ответ	1
Дан неверный ответ	0
<i>Максимальный балл</i>	1



11

Какое первое впечатление произвёл мальчик на автора текста? Запишите ответ. Выпишите из текста не менее трёх ключевых слов (словосочетаний), которые подтверждают Ваш ответ.

<b>Содержание верного ответа и указания по оцениванию</b> (допускаются иные формулировки ответа, не искажающие его смысла)	<b>Баллы</b>
<p>Правильный ответ должен содержать следующие <u>элементы</u>:</p> <p>1) ответ на вопрос, например: <i>Сначала мальчик произвёл на автора впечатление начитанного человека, который интересуется и классикой, и современной литературой;</i> (Ответ может быть дан в иной, близкой по смыслу формулировке.)</p> <p>2) выписанные из текста ключевые слова и словосочетания, подтверждающие ответ, например: <i>уткнувшись в книгу; увлечённо читал; глотает книги; очень начитанный; длинный список произведений; книгочел.</i></p> <p>Возможны другие формы, другая последовательность, другое (большее или меньшее, но не менее трёх) количество ключевых слов и словосочетаний</p>	
<b>Ответ на вопрос</b>	
<p>Дан правильный ответ, в предложении может быть допущен один речевой недочёт или допущена одна орфографическая, или одна пунктуационная, или одна грамматическая ошибка</p>	2
<p>Дан правильный ответ, в предложении могут быть допущены один речевой недочёт и одна орфографическая, или одна пунктуационная, или одна грамматическая ошибка.</p> <p>ИЛИ Дан правильный ответ, в предложении могут быть допущены один речевой недочёт и две орфографические ошибки при отсутствии пунктуационных и грамматических ошибок.</p> <p>ИЛИ Дан правильный ответ, в предложении могут быть допущены один речевой недочёт и две пунктуационные ошибки при отсутствии орфографических и грамматических ошибок.</p> <p>ИЛИ Дан правильный ответ, в предложении могут быть допущены один речевой недочёт и две грамматические ошибки при отсутствии орфографических и пунктуационных ошибок.</p> <p><i>Всего в предложении, содержащем правильный ответ, в сумме может быть допущено не более трёх ошибок (в их числе – только один речевой недочёт)</i></p>	1
<p>Дан правильный ответ, в предложении допущено более трёх ошибок.</p> <p>ИЛИ Ответ неправильный</p>	0
<b>Выписанные из текста ключевые слова и словосочетания, подтверждающие ответ</b>	
<p>Правильно определены и выписаны ключевые слова и словосочетания (не менее трёх)</p>	3
<p>Правильно определены и выписаны ключевые слова и словосочетания (не менее двух)</p>	2
<p>Правильно определено и выписано ключевое слово или словосочетание</p>	1
<p>Неправильно определены и выписаны ключевые слова и словосочетания.</p> <p>ИЛИ Не выписаны ключевые слова и словосочетания</p>	0
<i>Максимальный балл</i>	5

12 Определите и запишите лексическое значение слова «заблуждаться» из предложения 25.

Содержание верного ответа и указания по оцениванию (допускаются иные формулировки ответа, не искажающие его смысла)	Баллы
<i>Заблуждаться – иметь ошибочное, неправильное мнение. Может быть дано иное, близкое по смыслу объяснение</i>	
Верно объяснено значение слова	1
Неверно объяснено значение слова. ИЛИ Объяснение значения слова не дано	0
<i>Максимальный балл</i>	<i>1</i>

13 Найдите стилистически окрашенное слово в предложениях 4–5, выпишите это слово. Подберите и запишите синоним к этому слову.

Содержание верного ответа и указания по оцениванию (допускаются иные формулировки ответа, не искажающие его смысла)	Баллы
Правильный ответ должен содержать следующие <u>элементы</u> : 1) распознавание стилистически окрашенного слова: <i>паренёк</i> ; 2) подбор синонима к данному слову: <i>паренёк – мальчик</i> . Могут быть подобраны другие синонимы	
<b>Распознавание стилистически окрашенного слова</b>	
Верно определено стилистически окрашенное слово	1
Неверно определено стилистически окрашенное слово. ИЛИ Не определено стилистически окрашенное слово	0
<b>Подбор синонима к слову</b>	
Верно подобран синоним к данному слову	1
Неверно подобран синоним к данному слову. ИЛИ Синоним не подобран	0
<i>Максимальный балл</i>	<i>2</i>

14

Объясните значение пословицы *Не на пользу читать, коли вершки хватать*, запишите Ваше объяснение.

Содержание верного ответа и указания по оцениванию (допускаются иные формулировки ответа, не искажающие его смысла)	Баллы
Данная пословица означает: <i>чтение не пойдёт на пользу, если оно будет поверхностным, если читатель не будет стремиться к осмыслению прочитанного.</i> Могут быть представлены другие формулировки объяснения значения пословицы	
Верно объяснено значение пословицы	2
В целом верно объяснено значение пословицы, но в объяснении есть неточность	1
Неверно объяснено значение пословицы. ИЛИ Объяснение значения пословицы не дано	0
<i>Максимальный балл</i>	2

### Система оценивания выполнения всей работы

Максимальный первичный балл за выполнение работы – 47.

*Рекомендации по переводу первичных баллов в отметки по пятибалльной шкале*

Отметка по пятибалльной шкале	«2»	«3»	«4»	«5»
Первичные баллы	0–21	22–31	32–41	42–47

**Проверочная работа  
по ФИЗИКЕ**

**7 класс**

**Образец**

**Инструкция по выполнению работы**

На выполнение работы по физике даётся 45 минут. Работа содержит 11 заданий.

Ответом на каждое из заданий 1, 3–6, 8, 9 является число или несколько чисел. В заданиях 2 и 7 нужно написать текстовый ответ. В заданиях 10 и 11 нужно написать решения задач полностью. В случае записи неверного ответа зачеркните его и запишите рядом новый.

При выполнении работы можно пользоваться непрограммируемым калькулятором.

При необходимости можно пользоваться черновиком. Записи в черновике проверяться и оцениваться не будут.

Советуем выполнять задания в том порядке, в котором они даны. Для экономии времени пропускайте задание, которое не удаётся выполнить сразу, и переходите к следующему. Постарайтесь выполнить как можно больше заданий.

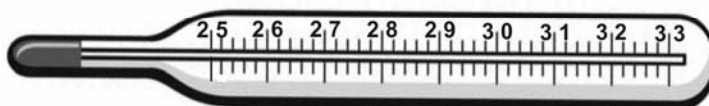
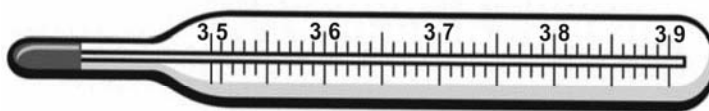
***Желаем успеха!***

*Таблица для внесения баллов участника*

Номер задания	1	2	3	4	5	6	7	8	9	10	11	Сумма баллов	Отметка за работу
Баллы													

1

Температура тела здорового человека равна  $+36,6\text{ }^{\circ}\text{C}$  – такую температуру называют нормальной. На рисунке изображены три термометра. Чему равна цена деления того термометра, который подойдет для измерения температуры тела с необходимой точностью?



Ответ: \_\_\_\_\_  $^{\circ}\text{C}$ .

2

На горизонтальном участке пути разогнавшийся автомобиль может довольно длительное время продолжать своё движение при неработающем двигателе. На каком механическом свойстве тел основан этот свободный ход машины? В чём состоит это свойство?

Ответ: \_\_\_\_\_

\_\_\_\_\_

3

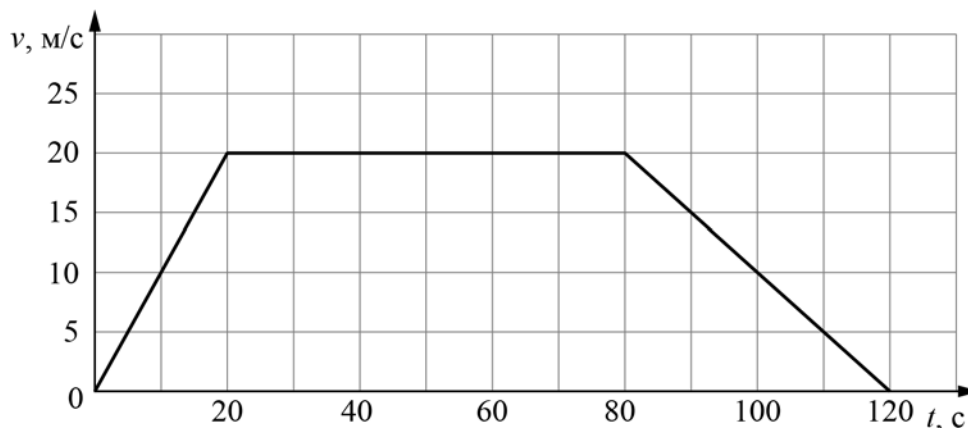
Петя посмотрел на этикетку, наклеенную на бутылку с подсолнечным маслом, и ему стало интересно, каково значение плотности этого масла. Найдите плотность масла, пользуясь данными с этикетки.



Ответ: \_\_\_\_\_  $\text{кг}/\text{м}^3$ .

4

На рисунке приведён график зависимости скорости электропоезда метро от времени при движении между двумя станциями. Сколько секунд поезд двигался с постоянной скоростью?



Ответ: \_\_\_\_\_ с.

5

Играя в кондитерский магазин, подружки взвешивали на рычажных весах две шоколадные плитки одинакового размера (без обёрток). Для того, чтобы уравновесить первую плитку шоколада, им понадобились одна гирька массой 50 грамм и две гирьки массами по 20 грамм каждая. Для взвешивания второй плитки им понадобились одна гирька массой 50 грамм, одна массой 15 грамм и одна массой 5 грамм. Подружки сообразили, что один шоколад был пористым, а второй – более плотным. Чему была равна масса плитки пористого шоколада?

Ответ: \_\_\_\_\_ г

6

Для постройки гаража дачнику не хватило песчано-цементной смеси. Для её изготовления было дополнительно заказано 300 кг песка. Но тележка, в которой можно его перевозить, вмещает только  $0,02 \text{ м}^3$ . Какое минимальное число раз дачнику придётся загружать эту тележку для того, чтобы перевезти весь песок? Плотность песка при его насыпании в тележку (так называемая насыпная плотность)  $1600 \text{ кг/м}^3$ .

Ответ: \_\_\_\_\_

7

В справочнике физических свойств различных материалов представлена следующая таблица плотностей:

Вещество	Плотность, кг/м <sup>3</sup>
Алюминий	2700
Вода	1000
Железо	7800
Кирпич	1600
Мёд	1350
Медь	8900
Никель	8900
Олово	7300
Парафин	900
Пробка	250
Ртуть	13600

Какие из этих веществ будут плавать в воде? Ответ кратко обоснуйте.

Ответ: \_\_\_\_\_  
\_\_\_\_\_

8

Спортсмены, которые занимаются дайвингом, могут погружаться в воду на глубину более 100 метров. Определите, во сколько раз отличается давление на этой глубине от давления на поверхности воды, если давление, создаваемое десятью метрами водяного столба эквивалентно атмосферному давлению.

Ответ: \_\_\_\_\_

9

Автомобиль выехал из Москвы в Псков. Сначала автомобиль двигался со скоростью 100 км/ч и водитель планировал, поддерживая всё время такую скорость, доехать до пункта назначения за 6 часов. Потом оказалось, что некоторые участки дороги не скоростные, скорость движения на них ограничена, и поэтому треть всего пути машина была вынуждена ехать со скоростью 50 км/ч (а на скоростных участках она ехала с изначально планировавшейся скоростью).

- 1) По данным задачи определите, каково расстояние между Москвой и Псковом.
- 2) Чему оказалась равна средняя скорость автомобиля при движении из Москвы в Псков?

Ответ: 1) расстояние \_\_\_\_\_ км; 2) средняя скорость \_\_\_\_\_ км/ч

10

В лаборатории завода в запаянной стеклянной колбе хранилась ртуть. Перед отправкой ртути в производственный цех завода лаборанту было поручено, не вскрывая колбу, измерить массу ртути. Лаборант определил массу колбы со ртутью (измерение дало результат  $m = 8,05$  кг) и внешний объем колбы  $V = 1000$  см<sup>3</sup>. Используя справочные данные, лаборант правильно вычислил массу ртути. Плотность ртути  $\rho_p = 13,6$  г/см<sup>3</sup>, плотность стекла  $\rho_c = 2,5$  г/см<sup>3</sup>.

- 1) Чему равна масса колбы со ртутью, если её выразить в граммах?
- 2) Определите массу ртути в колбе, если ртуть заполняла внутреннее пространство колбы практически полностью.
- 3) Во сколько раз масса ртути больше массы пустой колбы?

Напишите полное решение этой задачи.

Решение:

Ответ:





**Система оценивания проверочной работы**

Правильный ответ на каждое из заданий 1, 3-6, 8 оценивается 1 баллом.

Полный правильный ответ на задание 9 оценивается 2 баллами. Если в ответе допущена одна ошибка (одно из чисел не записано или записано неправильно), выставляется 1 балл; если оба числа записаны неправильно или не записаны – 0 баллов.

Номер задания	Правильный ответ
1	0,1
3	920
4	60
5	70
6	10
8	11
9	600; 75

**Решения и указания к оцениванию ответов на задания 2, 7, 10 и 11**

2

На горизонтальном участке пути разогнавшийся автомобиль может довольно длительное время продолжать своё движение при неработающем двигателе. На каком механическом свойстве тел основан этот свободный ход машины? В чём состоит это свойство?

Решение	
На свойстве инертности. Оно заключается в стремлении тел сохранять состояние своего покоя или равномерного движения.	
Указания к оцениванию	Баллы
Приведен полностью правильный ответ на оба вопроса, содержащий правильное название свойства и его правильное описание.	2
В решении имеется один или несколько из следующих недостатков. Приведено только правильное название свойства без его описания. ИЛИ Приведено только правильное описание свойства без указания его названия. И (ИЛИ) В решении дан ответ на оба вопроса, но имеется неточность в названии свойства или в его описании.	1
Все случаи решения, которые не соответствуют вышеуказанным критериям выставления оценок в 1 или 2 балла.	0
<i>Максимальный балл</i>	2

7

В справочнике физических свойств различных материалов представлена следующая таблица плотностей:

Вещество	Плотность, кг/м <sup>3</sup>
Алюминий	2700
Железо	7800
Кирпич	1600
Мёд	1350
Медь	8900
Никель	8900
Олово	7300
Парафин	900
Пробка	250
Ртуть	13600
Вода	1000

Какие из этих веществ будут плавать в воде? Ответ кратко обоснуйте.

Решение	
Будут плавать парафин и пробка, так как их плотность меньше плотности воды.	
Указания к оцениванию	Баллы
Приведен полностью правильный ответ на вопрос и дано правильное объяснение.	2
В решении имеется один или несколько из следующих недостатков. Приведен только полный правильный ответ на вопрос без объяснения. ИЛИ Приведено правильное объяснение, но правильный ответ на вопрос дан лишь частично. И (ИЛИ) В решении дан полный правильный ответ на вопрос, но в объяснении имеется неточность.	1
Все случаи решения, которые не соответствуют вышеуказанным критериям выставления оценок в 1 или 2 балла.	0
<i>Максимальный балл</i>	2

10

В лаборатории завода в запаянной стеклянной колбе хранилась ртуть. Перед отправкой ртути в производственный цех завода лаборанту было поручено, не вскрывая колбу, измерить массу ртути. Лаборант определил массу колбы со ртутью (измерение дало результат  $m = 8,05$  кг) и внешний объем колбы  $V = 1000$  см<sup>3</sup>. Используя справочные данные, лаборант правильно вычислил массу ртути. Плотность ртути  $\rho_p = 13,6$  г/см<sup>3</sup>, плотность стекла  $\rho_c = 2,5$  г/см<sup>3</sup>.

1) Чему равна масса колбы со ртутью, если её выразить в граммах?

2) Определите массу ртути в колбе, если ртуть заполняла внутреннее пространство колбы практически полностью.

3) Во сколько раз масса ртути больше массы пустой колбы?

Напишите полное решение этой задачи.

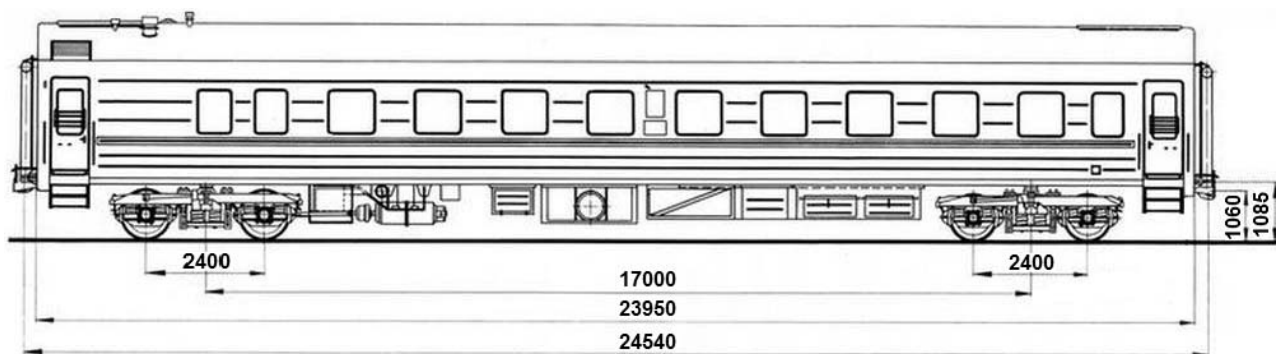
<b>Решение</b>	
<p>1) <math>m = 8,05</math> кг = 8050 г.</p> <p>2) Внешний объем колбы равен сумме объёмов ртути и стекла <math>V = V_p + V_c</math>, масса колбы со ртутью <math>m = \rho_p \cdot V_p + \rho_c \cdot V_c</math>. Отсюда объем ртути <math>V_p = (m - \rho_c V) / (\rho_p - \rho_c) = 500</math> см<sup>3</sup>, а масса ртути <math>m_p = \rho_p V_p = 6,8</math> кг.</p> <p>3) Масса пустой стеклянной колбы <math>m_c = m - m_p = 1,25</math> кг. Поэтому <math>m_p / m_c = 5,44</math>.</p> <p><b>Ответ:</b> 1) <math>m = 8050</math> г; 2) <math>m_p = 6,8</math> кг; <math>m_p / m_c = 5,44</math>.</p> <p><b>Допускается другая формулировка рассуждений</b></p>	
Указания к оцениванию	Баллы
<p>Приведено полное решение, включающее следующие элементы:</p> <p>I) записаны положения теории, физические законы, закономерности, формулы и т.п. <u>применение которых необходимо</u> для решения задачи выбранным способом (в данном случае: <i>связь между массой, объёмом и плотностью</i>);</p> <p>II) проведены нужные рассуждения, верно осуществлена работа с графиками, схемами, таблицами (при необходимости), сделаны необходимые математические преобразования и расчёты, приводящие к правильному числовому ответу (допускается решение «по частям» с промежуточными вычислениями; часть промежуточных вычислений может быть проведена «в уме»; задача может решаться как в общем виде, так и путем проведения вычислений непосредственно с заданными в условии численными значениями);</p> <p>III) представлен правильный численный ответ на все три вопроса задачи с указанием единиц измерения искомой величины.</p>	3
Приведено полное верное решение (I, II) и дан правильный ответ (III) только для двух пунктов задачи	2
Приведено полное верное решение (I, II) и дан правильный ответ (III) только для одного пункта задачи	1
Все случаи решения, которые не соответствуют вышеуказанным критериям выставления оценок в 1, 2 или 3 балла.	0
<i>Максимальный балл</i>	3

11

Вдоль стоящего на станции пассажирского поезда идёт обходчик. Он резко ударяет молотком по оси каждого колеса и затем на мгновение прикладывает к ней руку. Пассажир Иван Иванович заметил, что вдоль всего состава обходчик проходит за 5 минут, делая при этом 48 ударов. Пользуясь чертежом вагона, оцените:

- 1) сколько вагонов в поезде?
- 2) с какой средней скоростью идёт обходчик?
- 3) чему равен минимальный интервал времени между слышимыми ударами?

Размеры на чертеже вагона приведены в миллиметрах. Напишите полное решение этой задачи.



**Решение**

Рассмотрим чертёж.

- 1) У вагона четыре колеса. Поэтому в поезде  $48/4 = 12$  вагонов.
- 2) Длина вагона примерно равна 24,5 м. Вдоль всего состава обходчик проходит за 5 мин = 300 с. Значит, длина поезда примерно равна 294 м, а средняя скорость обходчика примерно равна  $294 \text{ м} / 300 \text{ с} = 1 \text{ м/с}$ .
- 3) Минимальное расстояние между осями двух соседних колёс равно 2,4 м. Поэтому минимальный интервал времени между слышимыми ударами равен  $2,4 \text{ м} / 1 \text{ м/с} = 2,4 \text{ с}$ .

**Ответ:** 12 вагонов; 1 м/с; 2,4 с.

**Допускается другая формулировка рассуждений.**

**Указания к оцениванию**

**Баллы**

Приведено полное решение, включающее следующие элементы:  
 I) записаны положения теории, физические законы, закономерности, формулы и т.п. применение которых необходимо для решения задачи выбранным способом (в данном случае: *связь между скоростью, временем движения и пройденным за это время путем*);  
 II) проведены нужные рассуждения, верно осуществлена работа с графиками, схемами, таблицами (при необходимости), сделаны необходимые математические преобразования и расчёты, приводящие к правильному числовому ответу (допускается решение «по частям» с промежуточными вычислениями; часть промежуточных вычислений может быть проведена «в уме»; задача может решаться как в общем виде, так и путем проведения вычислений непосредственно с заданными в условии численными значениями);  
 III) представлен правильный численный ответ на все три вопроса задачи с указанием единиц измерения искомой величины.

3

Приведено полное верное решение (I, II) и дан правильный ответ (III) только для двух пунктов задачи	2
Приведено полное верное решение (I, II) и дан правильный ответ (III) только для одного пункта задачи	1
Все случаи решения, которые не соответствуют вышеуказанным критериям выставления оценок в 1, 2 или 3 балла.	0
<i>Максимальный балл</i>	<i>3</i>

### Система оценивания выполнения всей работы

Максимальный первичный балл за выполнение работы – **18**.

*Рекомендуемая таблица перевода баллов в отметки по пятибалльной шкале*

Отметка по пятибалльной шкале	«2»	«3»	«4»	«5»
<b>Первичные баллы</b>	0–4	5–7	8–10	11–18

*Получение более 15 баллов свидетельствует об освоении обучающимся программы 7-го класса на повышенном уровне.*

### Уровень физической подготовленности учащихся 1 класса.

Контрольные упражнения	Уровень					
	высокий	средний	низкий	высокий	средний	низкий
	Мальчики			Девочки		
Подтягивание на высокой перекладине (раз)	4	2-3	1	-	-	-
Подтягивание на низкой перекладине из виса лежа, (кол-во раз)	-	-	-	12	4-8	2
Прыжок в длину с места, см	155см	115-135см	100 и мен	150 и бол	110-130см	85 и менее
Наклон вперед, не сгибая ног в коленях	9	3	1	12.5	6	2
Бег 30 м с высокого старта,	5.6 с	7.3-6.2 с	7.5 и бол	5.8 и мен	7.5 – 6.4 с	7.6 и более
Бег 1000 м	+	+	+	+	+	+
Челночный бег 3по 10 м(с)	9.9	10.8-10.3	11.2	10.2	11.3-10.6	11.7
Наклон вперед из положения стоя	Касание пола ладощками	Касание пола пальцами	Не касается пола	Касание пола ладощками	Касание пола пальцами	Не касается пола

### Контрольно-измерительные материалы 2 класс.

Контрольные упражнения	Уровень					
	высокий	средний	низкий	высокий	средний	низкий
	Мальчики			Девочки		
Подтягивание на высокой перекладине (раз)	4	2-3	1	-	-	-
Подтягивание на низкой перекладине из виса лежа, (кол-во раз)	-	-	-	12	4-8	2
Прыжок в длину с места, см	165см	125-145см	110 см	155	125-140см	100
Наклон вперед, не сгибая ног в коленях	9	3	1	12.5	6	2
Бег 30 м с высокого старта, с	5.4 с	7.0-6.0 с	7.1	5.6	7.2 – 6.2 с	7.3
Бег 1000 м	+	+	+	+	+	+
Челночный бег 3по 10 м(с)	9.1	10.0-9.5	10.4	11.2	10.7-10.1	11.2
Наклон вперед из положения стоя	Касание пола ладонями	Касание пола пальцами	Не касается пола	Касание пола ладонями	Касание пола пальцам и	Не касается пола



### Контрольные нормативы. 3 класс.

Контрольные упражнения	Уровень					
	высокий	средний	низкий	высокий	средний	низкий
	Мальчики			Девочки		
Подтягивание на высокой перекладине (раз)	5	3-4	1	-	-	-
Подтягивание на низкой перекладине из виса лежа, (кол-во раз)	-	-	-	16	7-11	3
Прыжок в длину с места, см	175	130-150	110	160	135-150	110
Бег 30 м с высокого старта	5.4	7.0-6.0	7.1	5.6	7.2 – 6.2	7.3
Бег 1000 м	+	+	+	+	+	+
Челночный бег 3 по 10 м(с)	8.8	9.9-9.3	10.2	10.8	10.3-9.7	10.8
Наклон вперед из положения стоя	Касание пола ладонками	Касание пола пальцам и	Не касается пола	Касание пола ладонкам и	Касание пола пальцами	Не касается пола

### Контрольные нормативы. 4 класс.

Контрольные упражнения	Мальчики			Девочки		
	«3»	«4»	«5»	«3»	«4»	«5»
1.Бег 30 м (сек)	6,6	6.5.	5,0	6,6	6,5	5,2
2.Прыжок в длину с места(см)	130	145	160	120	135	150
3.Метание набивного мяча(см)	270	300	350	230	250	270
4.Бег 1500 м(мин,сек)	8.30	8.15	8.00	8.50	8.40	8,20
5 Бег 1000 м (мин,сек)	6.30	6.10	4.50	6.50	6.30	6.00
6.Сила кисти(кг)	10.0	15.0	20.0	9.0	14.0	18.0
7.Челночный бег 3*10 м(сек)	9.8	9.1	8.6	10.2	9.6	9.1
8.Поднимание туловища из положения, лежа за 1 мин.(кол-во раз)	24	32	36	16	22	26
9.Поднимание туловища из положения, лежа за 30 сек.(кол-во раз)	12	16	20	8	11	13
10.Подтягивание, из виса лежа(95см,110см),(кол-во раз)	-	-	-	5	7	14
11.Наклон вперед из положения, сидя(см)	+3	+5	+9	+6	+9	+12
12.Прыжки через скакалку за 1 мин(кол-во раз)	40	50	60	70	80	90
13.Бег 60 м (сек)	12,0	11,6	10,5	12.9	12.3	11.0
14.Прыжок в длину с разбега (см)	260	261	340	190	200	260
15.Прыжок в высоту (см)	85	90	110	80	85	105
16.Метание мяча150 г(м)	22	26	31	13	16	20
17.Подтягивание на высокой перекладине (кол-во раз)	<b>2</b>	<b>3</b>	<b>5</b>	-	-	-
18.Бег на лыжах1 км.	8,15	7.45	6.45	8,30	8,20	7,30
19.Приседания на 1 ноге с опорой (раз)	8	10	15	7	9	13
20. Сгибание разгибание рук в упоре лежа (раз)	9	12	16	6	9	10
22.Броски в корзину стоя сбоку 1.5 (м) от щита (раз)	1	2	4	1	2	3
23.Ведение мяча на расстоянии 15 м с максимальной скоростью (с)	4.2	4.0	3.8	4.5	4.3	4.0

## Контрольные нормативы

### 5 класс

Контрольные упражнения	Мальчики			Девочки		
	«3»	«4»	«5»	«3»	«4»	«5»
1.Бег 30 м (сек)	6,2	6,1	5,3	6,3	6,2	5,4
2.Прыжок в длину с места(см)	130	140	160	125	130	150
3.Метание набивного мяча(см)	270	310	380	235	275	350
4.Бег 1500 м(мин,сек)	8,50	9,59	8,50	10,30	10,29	9,00
5 Бег 1000 м (мин,сек)	6.30	6.10	4.50	6.50	6.30	6.00
6.Сила кисти(кг)	12	15	18	16	21	24
7.Челночный бег 3*10 м(сек)	8.6	8.5	8.2	9.1	9.0	8.6
8.Поднимание туловища из положения лежа за 1 мин.(кол-во раз)	26	32	38	18	24	28
9.Поднимание туловища из положения лежа за 30 сек.(кол-во раз)	22	12	11	9	10	16
10.Подтягивание,из виса лежа(95см,110см),(кол-во раз)	3	4	8	<b>7</b>	<b>9</b>	<b>15</b>
11.Наклон вперед из положения,сидя(+см)	2,0	5,0	7,0	4,0	7,0	10,0
12.Прыжки через скакалку за 1 мин(кол-во раз)	70	89	90	90	91	110
13.Бег 60 м (сек)	12.0	11,6	10,5	12.9	12.3	11.0
14.Бег 1500 м (мин,сек)	8,30	8,10	7,50	9,00	8,30	8,10
15.Прыжок в длину с разбега (см)	190	220	290	190	200	260
16.Прыжок в высоту (см)	85	90	110	80	85	105
17.Метание мяча 150 г(м)	24	27	32	13	15	17
18.Подтягивание на высокой перекладине (кол-во раз)	<b>2</b>	<b>3</b>	<b>5</b>	-	-	-
19.Бег на лыжах 1 км.	8,15	7,45	6.45	8,40	8,20	7,30
20.Приседания на 1 ноге с опорой (раз)	14	15	20	12	13	18
21. Сгибание разгибание рук в упоре лежа (раз)	9	12	16	5	7	12
22.Броски в корзину стоя сбоку 1.5 от щита (раз)	2	3	5	2	3	4
23 Ведение мяча на расстоянии 15 м с максимальной скоростью (с)	4.2	4.0	3.8	4.5	4.3	4.0

### Контрольные нормативы. 6 класс.

Контрольные упражнения	Мальчики			Девочки		
	«3»	«4»	«5»	«3»	«4»	«5»
1.Бег 30 м (сек)	6,0	5.9	5,2	6,1	5.4	5,3
2.Прыжок в длину с места(см)	150	160	175	140	145	165
3.Метание набивного мяча(см)	270	310	380	235	275	350
4.Бег 1500 м(мин,сек)	8,35	7.55	7.10	8.55	8.35	8.00
5 Бег 1000 м (мин,сек)	6.31	4.31	4.30	7.11	5.11	5.10
6.Сила кисти(кг)	20	21	28	14	15	20
7.Челночный бег 3*10 м(сек)	8.6	8.1	8.2	9.0	8.0	8.4
8.Поднимание туловища из положения,лежа за 1 мин.(кол-во раз)	27	33	39	19	25	29
9.Поднимание туловища из положения,лежа за 30 сек.(кол-во раз)	23	13	12	10	11	17
10.Подтягивание,из вися лежа(95см,110см),(кол-во раз)	4	5	9	<b>9</b>	<b>11</b>	<b>17</b>
11.Наклон вперед из положения,сидя(+см)	4,0	6,0	9,0	6,0	9,0	12,0
12.Прыжки через скакалку за 1 мин(кол-во раз)	84	99	105	95	96	115
13.Бег 60 м (сек)	11,0	10.8	9.9	11,4	11.2	10,3
14.Бег 1500 м (мин,сек)	8,30	8,10	7,50	9,00	8,30	8,10
15.Прыжок в длину с разбега (см)	280	290	330	240	260	300
16.Прыжок в высоту (см)	90	95	115	85	95	110
17.Метание мяча 150 г(м)	25	28	34	14	18	22
18.Подтягивание на высокой перекладине (кол-во раз)	3	4	7	-	-	-
19.Бег на лыжах 2 км.	14.10	13.50	13.00	14.50	14.30	13.50
20. Приседания на 1 ноге с опорой (раз)	22	23	30	16	17	24
21.Сгибание разгибание рук в упоре лежа(раз)	12	14	20	7	8	14

**Контрольные нормативы. 7 класс.**

Контрольные упражнения	Юноши			Девушки		
	«3»	«4»	«5»	«3»	«4»	«5»
1.Бег 2000 м (с)	9.55	9.30	9.00	12.10	11.40	11.00
2.Прыжок в длину с места(см)	175	185	200	150	155	175
3.Метание набивного мяча (см)	270	310	380	235	275	350
4.Бег 1500 м(мин,сек)	8.35	7.55	7.10	8.55	12.00	11.30
5.Бег 1000 м (мин,сек)	6.16	4.21	4.20	7.01	5.05	5.00
6.Сила кисти (кг)	32	25	18,0	16	21	22
7.Челночный бег 3*10 м (сек)	8.4	8.3	7.8	8.8	8.7	8.2
8.Поднимание туловища из положения лежа за 1 мин (кол-во раз)	30	36	47	25	30	40
9.Поднимание туловища из положения лежа за 30 сек (кол-во раз)	24	14	13	11	12	18
10.Подтягивание из виса лежа(95см,110см)(кол-во раз)	-	-	-	9	11	18
11.Наклон вперед из положения, сидя (см)	4,0	6,0	9,0	6,0	9,0	12,0
12.Прыжки через скакалку за 1 мин (кол-во раз)	94	95	105	104	105	120
13.Бег 60 м (сек)	10.0	9.7	8.7	10.9	10.6	9.6
14.Бег 1500 м (мин, сек)	8,35	7.55	7,10	8.55	8,35	8,00
15.Прыжок в длину с разбега (см)	330	350	390	280	290	330
16.Прыжок в высоту (см)	100	105	125	90	95	115
17.Метаниемяча150 г(м)	30	35	40	18	21	26
18.Подтягивание на высокой перекладине (кол-во раз)	4	6	10	-	-	--
19.Бег на лыжах 3км.	18.45	17.45	16,30	22.30	21.30	19.30
20. Приседания на 1 ноге с опорой (раз)	26	27	35	20	21	29
21. Сгибание разгибание рук в упоре лежа (раз)	9	12	20	7	9	15
22. Бег на лыжах 5км.	28.00	27.15	26.00	-	-	-

### Контрольные нормативы. 8 класс.

Контрольные упражнения	Юноши			Девушки		
	«3»	«4»	«5»	«3»	«4»	«5»
1 Бег 2000 м (с)	9.55	9.30	9.00	12.10	11.40	11.00
2.Прыжок в длину с места(см)	175	185	200	150	155	175
3.Метание набивного мяча (см)	270	310	380	235	275	350
4.Бег 1500 м(мин,сек)	8.35	7.55	7.10	8.55	12.00	11.30
5 Бег 1000 м (мин,сек)	6.16	4.21	4.20	7.01	5.05	5.00
6.Сила кисти (кг)	32	25	18,0	16	21	22
7.Челночный бег 3*10 м (сек)	8.4	8.3	7.8	8.8	8.7	8.2
8.Поднимание туловища из положения лежа за 1 мин (кол-во раз)	30	36	47	25	30	40
9.Поднимание туловища из положения лежа за 30 сек (кол-во раз)	24	14	13	11	12	18
10.Подтягивание из виса лежа(95см,110см)(кол-во раз)	-	-	-	9	11	18
11.Наклон вперед из положения, сидя (см)	4,0	6,0	9,0	6,0	9,0	12,0
12.Прыжки через скакалку за 1 мин (кол-во раз)	94	95	105	104	105	120
13.Бег 60 м (сек)	10.0	9.7	8.7	10.9	10.6	9.6
14.Бег 1500 м (мин, сек)	8,35	7.55	7,10	8.55	8,35	8,00
15.Прыжок в длину с разбега (см)	330	350	390	280	290	330
16.Прыжок в высоту (см)	100	105	125	90	95	115
17.Метаниемяча150 г(м)	30	35	40	18	21	26
18.Подтягивание на высокой перекладине (кол-во раз)	4	6	10	-	-	--
19.Бег на лыжах 3км.	18.45	17.45	16,30	22.30	21.30	19.30
20. Приседания на 1 ноге с опорой (раз)	26	27	35	20	21	29
21. Сгибание разгибание рук в упоре лежа (раз)	9	12	20	7	9	15
22. Бег на лыжах 5км.	28.00	27.15	26.00	-	-	-

### Контрольные нормативы. 9 класс.

Контрольные упражнения	Юноши			Девушки		
	«3»	«4»	«5»	«3»	«4»	«5»
1 Бег 2000 м (с)	9.55	9.30	9.00	12.10	11.40	11.00
2.Прыжок в длину с места(см)	175	185	200	150	155	175
3.Метание набивного мяча (см)	270	310	380	235	275	350
4.Бег 1500 м(мин,сек)	8.35	7.55	7.10	8.55	12.00	11.30
5 Бег 1000 м (мин,сек)	6.16	4.21	4.20	7.01	5.05	5.00
6.Сила кисти (кг)	32	25	18,0	16	21	22
7.Челночный бег 3*10 м (сек)	8.4	8.3	7.8	8.8	8.7	8.2
8.Поднимание туловища из положения лежа за 1 мин (кол-во раз)	30	36	47	25	30	40
9.Поднимание туловища из положения лежа за 30 сек (кол-во раз)	24	14	13	11	12	18
10.Подтягивание из виса лежа(95см,110см)(кол-во раз)	-	-	-	9	11	18
11.Наклон вперед из положения, сидя (см)	4,0	6,0	9,0	6,0	9,0	12,0
12.Прыжки через скакалку за 1 мин (кол-во раз)	94	95	105	104	105	120
13.Бег 60 м (сек)	10.0	9.7	8.7	10.9	10.6	9.6
14.Бег 1500 м (мин, сек)	8,35	7,55	7,10	8,55	8,35	8,00
15.Прыжок в длину с разбега (см)	330	350	390	280	290	330
16.Прыжок в высоту (см)	100	105	125	90	95	115
17.Метаниемяча150 г(м)	30	35	40	18	21	26
18.Подтягивание на высокой перекладине (кол-во раз)	4	6	10	-	-	--
19.Бег на лыжах 3км.	18.45	17.45	16,30	22.30	21.30	19.30
20. Приседания на 1 ноге с опорой (раз)	26	27	35	20	21	29
21. Сгибание разгибание рук в упоре лежа (раз)	9	12	20	7	9	15
22. Бег на лыжах 5км.	28.00	27.15	26.00	-	-	-

**УЧЕБНЫЕ НОРМАТИВЫ. 10 класс.**

Контрольные упражнения.	юноши			девушки		
	«5»	«4»	«3»	«5»	«4»	«3»
Бег 100 м.	13.8	14.3	14.6	16.3	17.6	18.0
Бег 2000 м.	7.50	8.50	9.20	9.50	11.20	11.50
Бег 3000 м.	13.10	14.40	15.10	—	—	—
Прыжок в длину, см.	440	380	360	360	320	310
Прыжок в высоту, см.	135	130	120	120	115	105
Метание гранаты, 500 гр. дев. 700 гр. юн.	38	32	27	21	17	13
Бег на лыжах мин, с.						
3 км.	---	---	---	17.30	18.45	19.15
5 км.	23.40	25.00	25.40	---	---	---
Подтягивание на высокой перекладине.	13	10	8	---	---	---
Подтягивание на низкой перекладине.	---	---	---	19	13	9
Бег челночный 3 по 10 м, с.	7.2	8.0	8.2	8.4	9,0	9,7
Прыжок в длину с места ,см.	230	210	200	185	170	160
Наклон вперед из положения стоя, см.	13	8	6	16	9	7
Бег челночный 10 по 10 м, с.	27	28	30	-	-	-
Сгибание разгибание туловища, раз	26	22	18	16	10	9
Поднимание туловища из положения лежа (ко-во раз в мин)	50	40	30	40	30	20



**УЧЕБНЫЕ НОРМАТИВЫ 11 класс.**

<b>Контрольные упражнения.</b>	<b>юноши</b>			<b>девушки</b>		
	<b>«5»</b>	<b>«4»</b>	<b>«3»</b>	<b>«5»</b>	<b>«4»</b>	<b>«3»</b>
Бег 100 м.	13.8	14.3	14.6	16.3	17.6	18.0
Бег 2000 м.	7.50	8.50	9.20	9.50	11.20	11.50
Бег 3000 м.	13.10	14.40	15.10	—	—	—
Прыжок в длину, см.	440	380	360	360	320	310
Прыжок в высоту, см.	135	130	120	120	115	105
Метание гранаты, 500 гр. дев. 700 гр. юн.	38	32	27	21	17	13
Бег на лыжах мин, с. 3 км.	---	---	---	17.30	18.45	19.15
5 км.	23.40	25.00	25.40	---	---	---
Подтягивание на высокой перекладине.	13	10	8	---	---	---
Подтягивание на низкой перекладине.	---	---	---	19	13	9
Бег челночный 3 по 10 м, с.	7.2	8.0	8.2	8.4	9,0	9,7
Прыжок в длину с места ,см.	230	210	200	185	170	160
Наклон вперед из положения стоя, см.	13	8	6	16	9	7
Бег челночный 10 по 10 м, с.	27	28	30	-	-	-
Сгибание разгибание туловища, раз	26	22	18	16	10	9
Поднимание туловища из положения лежа (ко-во раз в мин)	50	40	30	40	30	20